

SULIT
2280/2
Geog
Sept
Kertas 2
2011
2 Jam

Nama :

Tingkatan :



**MAJLIS PENGETUA SEKOLAH - SEKOLAH MALAYSIA (MPSM)
CAWANGAN KELANTAN**

**PEPERIKSAAN PERCUBAAN SPM
TINGKATAN LIMA
2011**

**GEOGRAFI
KERTAS 2
Masa : Dua Jam**

JANGAN BUKA KERTAS SOALAN INI SEHINGGA DIBERITAHU

| Untuk Kegunaan Pemeriksa | | |
|--------------------------|----|--|
| A | 1 | |
| | 2 | |
| | 3 | |
| | 4 | |
| | 5 | |
| | 6 | |
| | 7 | |
| B | 8 | |
| | 9 | |
| | 10 | |
| | 11 | |

Bahagian A

[40 markah]

Jawab semua soalan di bahagian ini

Soalan 1 hingga Soalan 5 berdasarkan peta topo siri 2280/2/PCSPM2011. Kaji peta ini dengan teliti sebelum menjawab soalan berikutnya.

- 1 Nyatakan bearing kuil Hindu (RG 084809) dari titik tanda tinggi 70 (RG 065845)

.....
[2 markah]

- 2 (a) Namakan bukit tertinggi yang terdapat di timur garisan timuran 12.

.....
[2 markah]

- (b) Berikan rujukan grid 6 angka bukit tertinggi itu.

.....
[2 markah]

- 3 Namakan simbol titik yang terdapat di RG 126862.


.....
[2 markah]

- 4 (a) Kirakan luas kawasan padi di bahagian barat laut peta.

.....
[3 markah]

- (b) Kira jarak jalan raya bermula di RG 120780 hingga ke RG 055864.

.....
[3 markah]



5 (a) Nyatakan dua ciri budaya yang terdapat dalam segi empat grid di atas.

(i)

(ii)

[2 markah]

(b) Nyatakan fungsi bandar Alor Kanan dalam peta

(i)

(ii)

(iii)

(iv)

[4 markah]



Foto 1

6 (a) Nyatakan **tiga** kesan kejadian berdasarkan foto 1 di atas.

(i)

(ii)

(iii)

[3 markah]

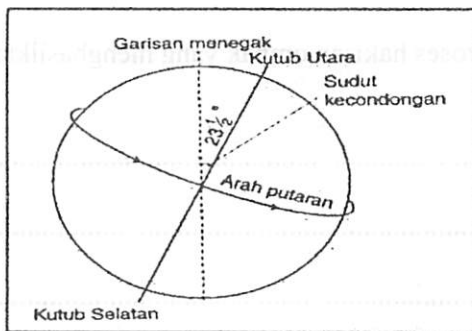
(b) Cadangkan **tiga** langkah untuk mengurangkan kejadian di atas.

(i)

(ii)

(iii)

[3 markah]



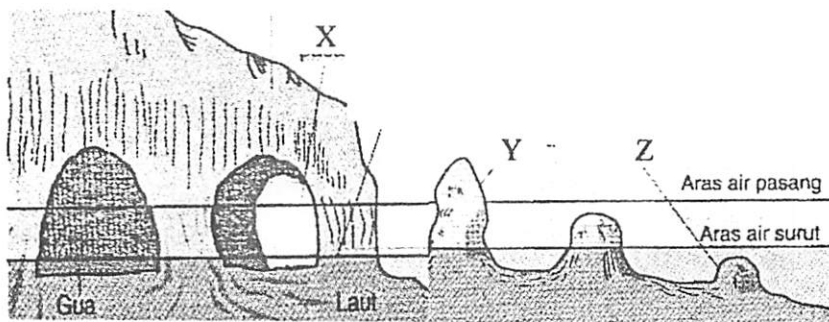
Pergerakan Bumi

(c) Pergerakan bumi di atas ialah

.....
[1 markah]

(d) Nyatakan tiga kesan pergerakan bumi di atas

- (i)
 - (ii)
 - (iii)
- [3 markah]



7 (a) Namakan bentuk bumi yang bertanda

- X
- Y
- Z

[3 markah]

(b) Nyatakan empat proses hakisan ombak yang menghasilkan bentuk muka bumi di atas.

(i)

(ii)

(iii)

(iv)

[4 markah]

(c) Nyatakan tiga potensi kawasan di atas kepada penduduk

(i)

(ii)

(iii)

[3 markah]

[5 markah]

(d) Cadangkan lima langkah untuk mengurangkan aliran migrasi luar bandar ke bandar.

[5 markah]

(c) Huraikan faktor yang menyebabkan kepadatan penduduk tinggi di satu-satu kawasan.

[5 markah]

(b) Mengapakah berlakunya migrasi bandar ke bandar ?

[5 markah]

9 (a) Berikan lima ciri penduduk optimum.

[5 markah]

(d) Mengapakah kegiatan akuakultur semakin penting di Malaysia ?

[5 markah]

(c) Huraikan kesan aktiviti pertanian ke atas alam sekitar.

[5 markah]

(b) Jelaskan faktor yang menggalakkan sektor pelancongan di Malaysia.

[5 markah]

(v) Taman Negara bertanda H

(iv) Gua bertanda G

(iii) Pulau bertanda F

(ii) Tasik bertanda E

(i) Tanah Tinggi bertanda D

8 (a) Di atas peta No. 1 (Malaysia), namakan pusat pelancongan

Jawab tiga soalan sahaja.

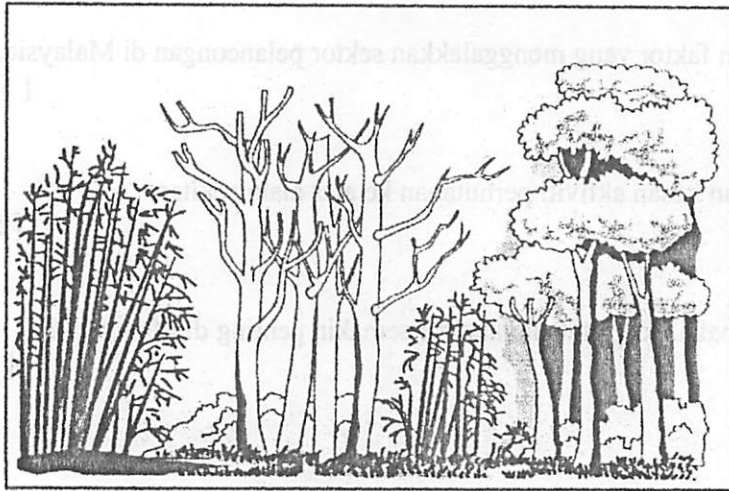
[60 markah]

Bahagian B

| Bulan | J | F | M | A | M | J | J | O | S | O | N | D |
|---------|----|----|----|----|----|----|----|----|----|----|----|----|
| Suhu °C | 12 | 14 | 14 | 18 | 20 | 20 | 22 | 16 | 14 | 12 | 10 | 10 |

Suhu Tahunan Stesen X

- 10 (a) Dengan menggunakan skala 1 cm mewakili 2 °C, lukiskan sebuah graf garisan untuk menunjukkan taburan suhu stesen X. [8 markah]
- (b) Berikan **enam** faktor yang menyebabkan berlakunya jerebu di Malaysia. [6 markah]
- (c) Nyatakan **enam** usaha untuk mengatasi fenomena kesan rumah hijau. [6 markah]



- 11 (a)(i) Nyatakan **lima** ciri hutan seperti foto di atas. [5 markah]
- (ii) Terangkan usaha-usaha untuk mengatasi kesan penerokaan hutan di atas. [5 markah]
- (b) Berikan **lima** kesan kejadian banjir kepada manusia dan alam sekitar. [5 markah]
- (c) Nyatakan **lima** faktor yang menyebabkan berlakunya tanah runtuh di Malaysia. [5 markah]

KERTAS SOALAN TAMAT

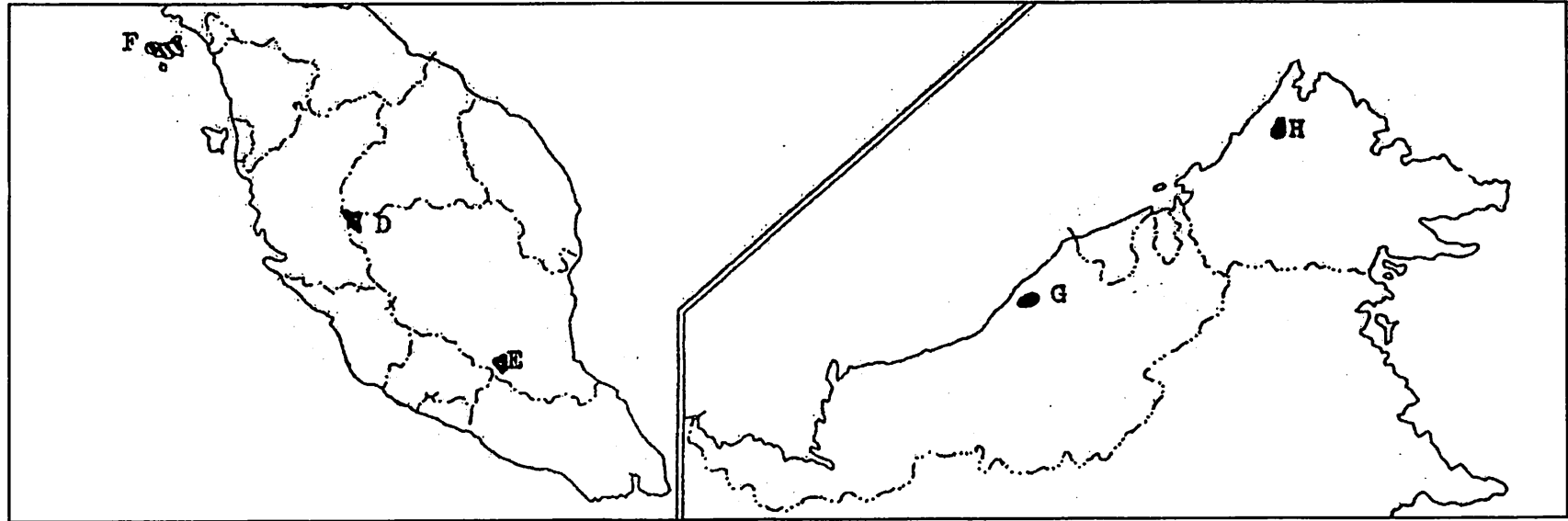
No. Kad Pengenalan :

Angka Giliran :

GEOGRAFI KERTAS 2

Peta No. 1 untuk Soalan 8

(Hendaklah diikat bersama-sama dengan kertas jawapan lain)



MALAYSIA

| | |
|---|--------------------|
| D | Tanah Tinggi _____ |
| E | Tasik _____ |

| | |
|---|-------------|
| F | Pulau _____ |
| G | Gua _____ |

| | |
|---|--------------------|
| H | Taman Negara _____ |
|---|--------------------|