



MAJLIS PENGETUA SEKOLAH MALAYSIA  
CAWANGAN PULAU PINANG

---

**MODUL PENILAIAN SPM 2011**  
**SEJARAH**

**1249/1**

**Kertas 1**

**September**

**1 Jam**

**Satu jam**

---

**JANGAN BUKA KERTAS SOALAN INI SEHINGGA DIBERITAHU**

1. *Kertas soalan ini mengandungi 40 soalan.*
2. *Jawab semua soalan.*
3. *Tiap-tiap soalan diikuti oleh empat pilihan jawapan, iaitu A, B, C dan D. Bagi setiap soalan, pilih satu jawapan sahaja. Hitamkan jawapan anda pada kertas jawapan objektif yang disediakan.*
4. *Sekiranya anda hendak menukar jawapan, padamkan tanda yang telah dibuat. Kemudian hitamkan jawapan yang baru.*

---

Kertas modul ini mengandungi 18 halaman bercetak.

[Lihat halaman sebelah

**1249/1**

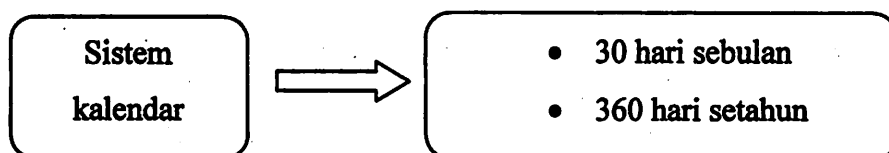
1 Senarai berikut menunjukkan dua buah bandar terancang dalam tamadun Indus.

- Harappa
- Mohenjo-Daro

Bagaimanakah masyarakat tamadun Indus berupaya membina bandar-bandar tersebut?

- I Pemahaman ilmu geometri
  - II Perkembangan pesat ekonomi
  - III Pertambahan penduduk bandar
  - IV Peningkatan mutu bahan binaan
- A I dan II
  - B I dan IV
  - C II dan III
  - D III dan IV

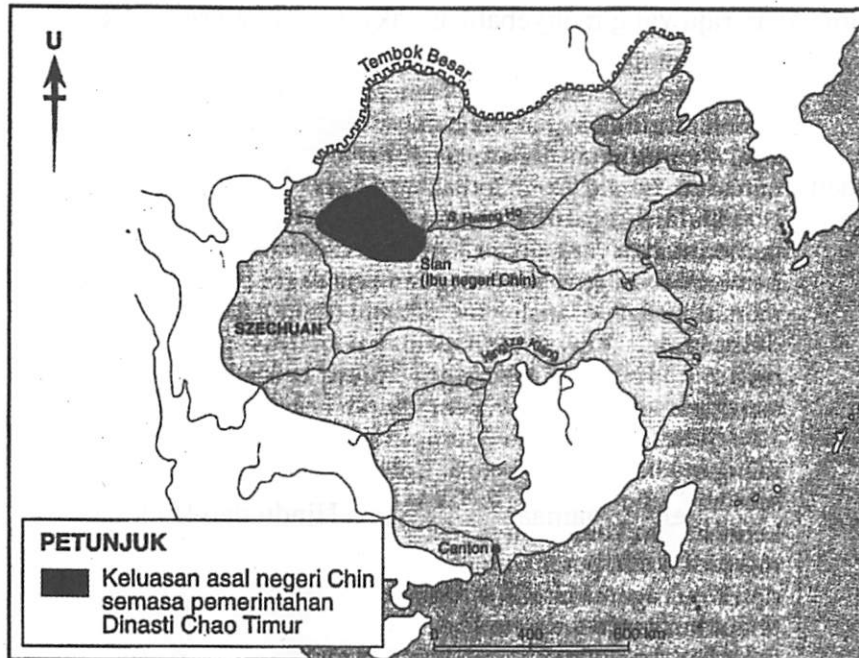
2 Rajah berikut berkaitan sistem kalendar masyarakat Dinasti Shang.



Apakah tujuan masyarakat China menggunakan kalendar tersebut?

- A Perniagaan
- B Penghijrahan
- C Peperiksaan
- D Perburuan

- 3 Peta berikut menunjukkan perluasan jajahan takluk Dinasti Chin dari tahun 221 S.M. hingga 206 S.M.



Semasa pemerintahan Maharaja Shih Huang Ti, jajahan takluk Dinasti Chin meluas sehingga ke Sungai Merah di Vietnam.

Bagaimanakah beliau mentadbir kawasan jajahan takluknya?

- A Pembentukan pasukan tentera
  - B Pelantikan gabenor di setiap wilayah
  - C Penyatuan di bawah pentadbiran pusat
  - D Pembinaan tembok sempadan
- 4 Mengapakah pemerintah Dinasti Maurya mengenakan pelbagai jenis cukai terhadap hasil perdagangan?
- A Membina jalan raya dan tali air
  - B Menyara golongan raja dan pentadbir
  - C Menambahkan sumber pendapatan negara
  - D Mengagihkan wang kepada golongan miskin

- 5 Anda berpeluang menjelajah kerajaan awal di Asia Tenggara. Anda mendapati rakyat takut untuk menderhaka kepada raja walaupun raja tidak berlaku adil.

Apakah keistimewaan raja yang menyebabkan rakyat bersikap sedemikian?

- A Anak tuhan
  - B Wakil tuhan
  - C Cahaya tuhan
  - D Bayangan tuhan
- 6 Candi merupakan monumen keagamaan bagi agama Hindu dan Buddha.

Apakah peranan candi?

- A Pusat penyebaran ilmu
  - B Pusat kegiatan sosial masyarakat
  - C Tempat menyimpan abu jenazah raja
  - D Tempat pertemuan para sami
- 7 Senarai berikut menunjukkan amalan masyarakat Arab Jahiliah.

- Sistem Kabilah
- Semangat assabiah

Apakah kesan amalan tersebut terhadap masyarakat Arab?

- A Mencetuskan peperangan
- B Menggugat kegiatan ekonomi
- C Mewujudkan persaingan kuasa
- D Mempamerkan perbezaan identiti

- 8 Tindakan berikut dilakukan oleh Nabi Muhammad s.a.w. sebelum baginda dilantik menjadi rasul.

*Bertahannuth* di Gua Hiraq

Apakah maksud *bertahannuth*?

- A Merancang strategi peperangan
  - B Mengasingkan diri untuk beribadat
  - C Mengadakan ceramah kepada kaum Quraisy
  - D Melindungi diri daripada ancaman kaum Quraisy
- 9 Apakah maksud *hijrah* dalam konteks tamadun Islam ?
- A Perpindahan orang Islam dari Makkah ke Madinah
  - B Perubahan kediaman orang Islam di Makkah
  - C Perlindungan politik orang Islam Makkah di Madinah
  - D Pertemuan Nabi Muhammad s.a.w. dengan orang Arab Madinah
- 10 Pernyataan berikut merupakan satu aspek penting kandungan Piagam Madinah.

Unsur penipuan dan riba dihapuskan.

Apakah kesannya kepada kerajaan Islam Madinah?

- A Keadilan ekonomi
- B Keamanan negara
- C Kesamarataan hak
- D Keluhuran perlembagaan

11 Kerajaan Bani Umayyah telah menubuhkan beberapa buah jabatan untuk memperkemaskan sistem pentadbirannya.

Apakah jabatan tersebut ?

- I Jabatan Perbendaharaan Negara
  - II Jabatan Pelajaran
  - III Jabatan Urusan Am
  - IV Jabatan Urusan Cap Mohor Pemerintah
- A I dan II
  - B I dan IV
  - C II dan III
  - D III dan IV

12 Bagaimanakah cara pertembungan tamadun Islam dengan tamadun lain di dunia?

- A Perkahwinan
- B Pengislaman pemerintah
- C Penaklukan dan ketenteraan
- D Penghijrahan penduduk

13 Kerajaan berikut memberikan sumbangan penting dalam penyebaran Islam di Asia Tenggara.

- Samudera-Pasai
- Johor-Riau

Apakah persamaan peranan kerajaan tersebut ?

- A Pengislaman pemerintah
- B Pertukaran teknologi
- C Perkahwinan siasah
- D Pusat kebudayaan

14 Apakah peranan Wali Songo di Jawa ?

- A Penulis
- B Pedagang
- C Pendakwah
- D Pemerintah

15 Pepatah berikut menggambarkan kehidupan dan nilai murni yang dipegang oleh masyarakat Melayu.

*Seikat seperti sirih, serumpun seperti serai, dan sedencing seperti besi*

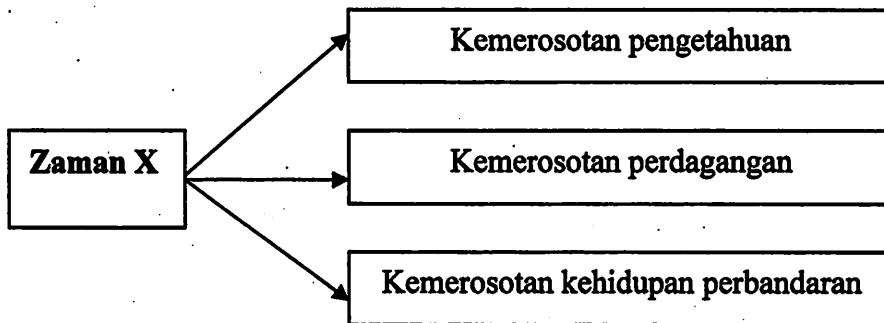
Nilai murni yang dimaksudkan pepatah tersebut dapat dikaitkan dengan unsur

- A hemah tinggi
- B perpaduan
- C penyayang
- D hormat-menghormati

16 Apakah gelaran yang diberikan kepada mata wang timah di Johor ?

- A Katun
- B Ketul
- C Kijang
- D Kupang

17 Rajah berikut menerangkan keadaan di Eropah selepas abad ke -5 M.



Apakah Zaman X?

- A Zaman Gelap
- B Zaman Peralihan
- C Zaman Pertengahan
- D Zaman Renaissance

18 Mengapakah negara di Timur menjadi sasaran orang Eropah pada abad ke -16 ?

- A Membekalkan tenaga buruh
- B Memajukan masyarakat tempatan
- C Memiliki kekayaan sumber alam
- D Mempunyai kedudukan yang strategik

19 Cara kemasukan buruh dari India ke Tanah Melayu pada abad ke-19 adalah melalui

- A sistem pengambilan kakitangan
- B sistem kontrak
- C sistem tiket kredit
- D sistem pengambilan rumah kongsi

20. Perkembangan perusahaan perlombongan bijih timah telah membantu kewujudan bandar

- I Miri
  - II Raub
  - III Seremban
  - IV Kuala Lumpur
- A I dan II
  - B I dan IV
  - C II dan III
  - D III dan IV

21 Mengapakah penduduk Filipina tidak puas hati dengan pelaksanaan Sistem Encomienda ?

- A Penyalahgunaan kuasa
- B Pengawalan ekonomi Filipina
- C Penindasan penduduk tempatan
- D Pelaksanaan peraturan tanah baru

22 Jadual 1 menerangkan perubahan pentadbiran yang berlaku di Thailand pada abad ke-19.

<b>Tokoh</b>	<b>Perubahan yang dibuat</b>
Raja Mongkut	Melantik 80 penasihat Barat
Raja Chulalongkorn	Memperkenalkan Kabinet Menteri

Jadual 1

Apakah kesan perubahan tersebut ?

- A Thailand mengekalkan institusi raja berkuasa mutlak
- B Thailand mencapai taraf negara maju
- C Thailand tidak dijajah oleh kuasa Barat
- D Thailand menyekat penguasaan pembesar tradisional

23 Apakah yang dimaksudkan dengan nasionalisme ?

- A Kebebasan mengamalkan agama
- B Kebebasan tanah air
- C Kebebasan bersuara
- D Kebebasan memilih pemimpin

24. Jadual 2 menunjukkan novel yang dihasilkan di Tanah Melayu pada tahun 1930-an.

Penulis	Novel
Ahmad Bakhtiar	Keris Melaka
Ishak Haji Muhammad	Anak Mat Lela Gila

Jadual 2

Apakah persamaan tema novel tersebut ?

- A Semangat menentang penjajah
  - B Semangat mempertahankan agama
  - C Semangat untuk memajukan negara
  - D Semangat membaiki taraf hidup orang Melayu
- 25 Apakah pertubuhan yang dibenarkan bergerak bebas semasa pendudukan Jepun di Tanah Melayu?
- A Force 136
  - B Barisan Pemuda
  - C Pasukan Wataniah
  - D Parti Komunis Malaya

26. Senarai berikut merujuk kepada peperangan yang berlaku di Barat.

- Revolusi Inggeris (1688)
- Perang Kemerdekaan Amerika (1776)
- Revolusi Perancis (1789)

Apakah implikasi peristiwa tersebut ?

- A Pembentukan parlimen Eropah
  - B Pembentukan sistem demokrasi
  - C Pembentukan negara bangsa moden
  - D Pembentukan kerajaan monarki baru
27. Apakah peranan Buapak dalam sistem pemerintahan demokrasi di Negeri Sembilan?
- A Merupakan ketua suku
  - B Menjadi tempat rujukan masalah
  - C Bertanggungjawab melantik Undang
  - D Berkuasa mentadbir daerah

28 Golongan berikut bersetuju dengan pembentukan Malayan Union.

- Orang dagang
- Golongan Melayu radikal

Mengapakah mereka bersetuju?

I Menghapuskan hak perlindungan orang Melayu

II Mengekalkan kerakyatan masing-masing

III Meningkatkan tahap pendidikan

IV Mewujudkan keamanan

A I dan II

B I dan IV

C II dan III

D III dan IV

29. Gambar berikut merujuk kepada anggota **Rukun Tiga Belas**.



Rosli Dhobi

Siapakah Gabenor Sarawak yang telah dibunuh oleh tokoh tersebut?

A J. P. Rodger

B J. W. W. Birch

C Sir Duncan Stewart

D Sir Harold MacMichael

30 Apakah yang dapat dibuktikan melalui kemenangan cemerlang Parti Perikatan dalam Pilihanraya Majlis Perundangan Persekutuan 1955 ?

- A Sokongan British
- B Permuafakatan kaum
- C Tiada saingan parti lain
- D Kebijaksanaan pemimpin

31 Suruhanjaya Reid telah dibentuk pada bulan Mac 1956.

Apakah tujuan pembentukannya?

- A Menubuhkan kerajaan
- B Menyusun perlembagaan
- C Mempercepat kemerdekaan
- D Mewujudkan perpaduan kaum

32 Maklumat berikut berkaitan peristiwa yang berlaku pada 27 Mei 1961.

Acara	: Majlis makan tengah hari
Anjuran	: Persatuan Wartawan Luar Negeri
Tempat	: Hotel Adelphi, Singapura

Apakah kesan peristiwa tersebut?

- A Pemisahan Singapura
- B Kemerdekaan Singapura
- C Pembentukan Gagasan Malaysia
- D Pembentukan Persekutuan Tanah Melayu

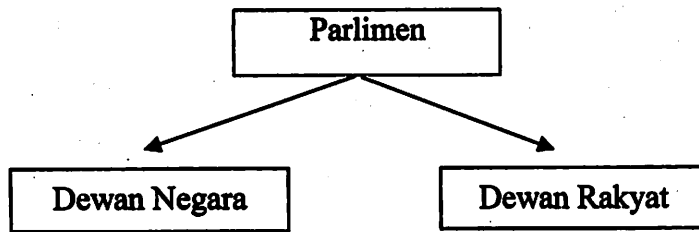
33 Senarai berikut merupakan parti-parti politik di Sarawak.

- PESAKA
- SNAP
- UNKO

Apakah isu yang dibangkitkan oleh parti-parti politik tersebut terhadap cadangan pembentukan Malaysia?

- I Ingin kemerdekaan terlebih dahulu
  - II Bimbang kehilangan identiti
  - III Ingin meningkatkan taraf hidup
  - IV Bimbang hak kerakyatan tergugat
- A I dan II
  - B I dan IV
  - C II dan III
  - D III dan IV


34. Rajah berikut berkaitan badan perundangan di Malaysia.



Apakah peranan utama dewan tersebut?

- A Mentafsir perlembagaan
- B Meluluskan undang -undang
- C Menyelaras pembangunan negara
- D Menggubal dasar negara

35. Jata Negara menjadi lambang kemegahan penduduk Malaysia.



Jata Negara

Lima bilah keris pada perisai melambangkan

- A Negeri-Negeri Selat
- B Persekutuan Tanah Melayu
- C Negeri-Negeri Melayu Bersekutu
- D Negeri-Negeri Melayu Tidak Bersekutu

36 Berdasarkan kajian Aminuddin Baki, sistem persekolahan aneka jurusan diperkenalkan pada tahun 1965.

Apakah matlamat sistem tersebut?

- A Menyediakan tenaga kerja mahir
- B Melahirkan pelajar kreatif dan kritis
- C Menempatkan pelajar berdasarkan kelulusan
- D Menekankan penguasaan membaca, menulis dan mengira

37 Cabaran keempat Wawasan 2020 bermatlamat mewujudkan masyarakat yang bermoral dan beretika.

Bagaimanakah cabaran tersebut dapat direalisasikan ?

- A Hormati lambang-lambang negara
- B Hidup bersatu padu
- C Ketaatan kepada raja
- D Kepatuhan kepada agama

38 Apakah pertubuhan yang dibentuk selepas tamatnya Perang Dunia Pertama?

- A Pertubuhan Bangsa-Bangsa Bersatu
- B Perikatan Kuasa Tengah
- C Pakatan Bertiga
- D Liga Bangsa

- 39 Apakah kepentingan Majlis Perhimpunan Agung yang ditubuhkan oleh Pertubuhan Bangsa-Bangsa Bersatu (PBB)?
- A Bertanggungjawab mengekalkan keamanan dan keselamatan antarabangsa
  - B Bertindak sebagai parlimen yang mendebatkan hal ehwal dunia
  - C Bertujuan menyelesaikan pertelingkahan antara negara
  - D Berfungsi menjalankan kerja-kerja pentadbiran
- 40 Malaysia merupakan negara anggota Persatuan Negara-Negara Asia Tenggara (ASEAN) dan Pergerakan Negara-Negara Berkecuali (NAM).
- Apakah persamaan matlamat kedua-dua pertubuhan tersebut?
- A Membangunkan negara-negara miskin
  - B Membentuk pakatan ketenteraan
  - C Menjalankan perdagangan bebas
  - D Mengelakkan campur tangan kuasa besar

### **MODUL PENILAIAN TAMAT**

