

SULIT



JABATAN PELAJARAN NEGERI TERENGGANU

PEPERIKSAAN PERTENGAHAN TAHUN 2011

1249/1

SEJARAH TINGKATAN 4

Kertas 1

Mei

1 jam

Satu jam

---

JANGAN BUKA KERTAS SOALAN INI SEHINGGA DIBERITAHU

1. *Kertas soalan ini mengandungi 40 soalan*
2. *Jawab semua soalan*
3. *Tiap-tiap soalan diikuti oleh empat pilihan jawapan, A,B,C dan D. Bagi setiap soalan pilih satu jawapan sahaja. Hitamkan jawapan anda pada kertas jawapan objektif yang disediakan.*
4. *Jika anda hendak menukar jawapan. Padamkan tanda yang telah dibuat. Kemudian hitamkan jawapan yang baru.*

---

TERENGGANU NEGERI ANJUNG ILMU

*Disediakan oleh:*

*Dengan kerjasama:*

*Dibiayai oleh:*

GURU AKRAM NEGERI TERENGGANU    MPSM NEGERI TERENGGANU    KERAJAAN NEGERI TERENGGANU

*Dicetak oleh:*

*Percetakan Yayasan Islam Terengganu Sdn. Bhd.*

*Tel: 609-666 8611/6652,8601 Faks: 609-666 0611 0063*

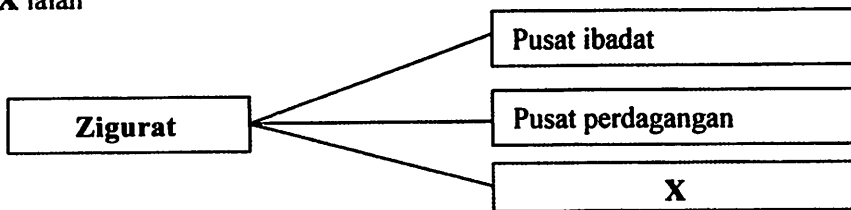
---

Kertas soalan ini mengandungi 10 halaman bercetak

- 1 Mengapakah penempatan kekal penting dalam pembentukan sesebuah tamadun?
- A Mengekalkan alam semulajadi
  - B Menjaga keselamatan penduduk
  - C Menjamin kewibawaan pemimpin
  - D Memastikan kelangsungan bekalan makanan
- 2 Apakah prinsip utama Undang-undang Hammurabi dalam tamadun Mesopotamia?
- A Hukuman yang sama untuk semua lapisan masyarakat
  - B Hukuman yang dikenakan setimpal dengan kesalahan
  - C Hukuman yang keras untuk mengawal tingkah laku manusia
  - D Hukuman dikenakan bersifat pemulihan

- 3 Rajah di bawah menunjukkan fungsi Zigurat dalam tamadun Mesopotamia.

X ialah



- A pusat keilmuan
  - B pusat bandar
  - C pusat pentadbiran
  - D pusat penyimpanan khazanah negara
- 4 Usaha orang Mesir purba untuk mengawal banjir di Sungai Nil telah membawa kepada perkembangan ilmu.
- Apakah ilmu yang dimaksudkan?
- A Sains
  - B Kimia
  - C Matematik
  - D Seni bina
- 5 Mengapakah makam mayat orang Mesir purba dipenuhi dengan peralatan dan kelengkapan harian?
- A Percaya akan kekuasaan firaun
  - B Percaya akan kata-kata pendeta
  - C Percaya kehidupan selepas mati
  - D Percaya kewujudan banyak tuhan

6 Apakah bidang yang berkaitan dengan sumbangan di bawah?

- Cuneiform
- Hieroglif
- Ideogram

gabung...

- A Agama
- B Tulisan
- C Bahasa
- D Sistem kepercayaan

7 Bagaimanakah masyarakat tamadun Indus menghasilkan batu bata?

- A Menggunakan ceper
- B Menggunakan tanah liat
- C Membakar dengan suhu tinggi
- D Menjemur pada panas matahari

8 Siapakah yang mengetuai upacara penyembahan dalam tamadun Hwang Ho?

- A Bomoh
- B Maharaja
- C Pembesar
- D Bangsawan

9 Pernyataan di bawah berkaitan dengan sumbangan tamadun Hwang Ho.

Memperkenalkan falsafah perang Sun Tzu dalam karya, "the Art of War"

Falsafah peperangan tersebut kini diaplikasikan pada zaman ini dalam bidang

- A perubatan
- B perniagaan
- C perkahwinan
- D pendidikan

10 Apakah aspek penting dalam sistem pemerintahan tentera di Sparta dalam tamadun Yunani?

- A Rakyat diberikan asas latihan sukan
- B Semua rakyat mesti taat pada pemerintah
- C Kaum wanita digalakkan menyertai tentera simpanan
- D Anak lelaki dilatih untuk menjadi askar yang baik

11 Senarai di bawah berkaitan dengan tokoh-tokoh terulung di Yunani.

- Socrates
- Aristotle
- Plato

Apakah bidang kepakaran mereka?

- A Agama
- B Falsafah
- C Astronomi
- D Matematik

12 Mengapa Rom ditadbir oleh dua orang Konsul pada masa pemerintahan republik diperkenalkan?

- I Untuk menjadikan Rom lebih digeruni oleh tanah jajahannya
- II Untuk memastikan negara mempunyai ketua pada setiap masa
- III Untuk mengimbangi kekuasaan seseorang pemerintah
- IV Untuk menjamin tiada pemerintah berkuasa mutlak

- A I dan II
- B I dan IV
- C II dan III
- D III dan IV

13 Dalam tamadun India, Maharaja Asoka mengarahkan supaya Tiang Asoka didirikan di tepi jalan.

Mengapakah beliau berbuat demikian?

- A Simbol kekuasaan maharaja
- B Amaran kepada rakyat bawahan
- C Lambang kedaulatan undang-undang
- D Membolehkan rakyat membaca titah perintahnya

14 Sresthin merupakan sebuah pertubuhan perdagangan dalam tamadun India.

Apakah matlamat penubuhannya?

- A Menjamin kesetiaan pekerja
- B Mengawal kadar gaji pekerja
- C Mempertahankan hak majikan
- D Memperjuangkan had masa bekerja

- 15 Sistem pentadbiran awam tamadun China terdiri daripada pegawai yang dilantik oleh Maharaja.

Siapakah yang akan dilantik sebagai pegawai kerajaan?

- A Anak-anak bangsawan dan kerabat diraja
- B Rakyat China yang lulus peperiksaan awam
- C Golongan intelektual
- D Pemimpin China yang banyak berjasa

- 16 Seni bina berikut dibina semasa pemerintahan Dinasti Chin dalam tamadun China.

Tembok Besar China

Apakah tujuan pembinaannya?

- A Pertahanan
- B Pentadbiran
- C Pelancongan
- D Persempadanan

- 17 Mengapakah penganut Hindu berusaha mencapai tahap Moksya?

- A Bersatu dengan Tuhan
- B Berharmoni dengan alam
- C Dilantik sebagai Brahmin
- D Dilahirkan semula ke dunia

- 18 Mengapakah kerajaan Angkor mampu mencapai kemajuan dalam bidang pertanian?

- A Membina sistem pengairan yang baik
- B Mempunyai pelabuhan entreport
- C Memiliki tentera yang kuat
- D Berkedudukan yang strategik

- 19 Nyatakan faktor kerajaan Funan berubah daripada kerajaan agraria kepada kerajaan maritim?

- A Kekayaan hasil laut
- B Perubahan dasar pentadbiran
- C Kedudukan Oc-Eo yang strategik
- D Peningkatan aktiviti pelayaran

- 20 Apakah faktor yang menyebabkan Srivijaya menjadi tempat persinggahan pedagang-pedagang dari India dan China ?
- A Pelabuhan bebas
  - B Penduduk ramai
  - C Kegiatan intelektual
  - D Kedudukan strategik
- 21 Apakah kepentingan upacara pertabalan kepada seseorang raja dalam kerajaan awal di Asia Tenggara?
- A Memperkukuhkan kedudukan
  - B Menunjukkan pemasyhuran
  - C Mendaulatkan adat istiadat istana
  - D Membuktikan raja adalah bayangan Tuhan
- 22 Bahagian paling atas yang terdapat pada candi Borobudur adalah lambang kepada pencapaian tahap nirwana.
- Apakah yang dimaksudkan dengan pencapaian tahap tersebut?
- A Mencapai peringkat moksha
  - B Membebaskan diri daripada nafsu
  - C Menyatukan diri dengan dewa
  - D Menghalang kedatangan roh jahat
- 23 Senarai di bawah menunjukkan hasil kesusasteraan di Asia Tenggara.
- Nagarakertagama
  - Hikayat Pandawa Lima
- Apakah yang dapat disimpulkan berkaitan dengan hasil kesusasteraan tersebut?
- A Diminati para bangsawan
  - B Ditulis golongan pendeta
  - C Dipengaruhi oleh unsur India
  - D Dijadikan dasar perundangan
- 24 Mengapakah Empangan Maarib di Sabak, Tanah Arab mengalami keruntuhan?
- A Serangan tentera Rom
  - B Berlakunya banjir besar
  - C Pemberontakan penduduk
  - D Kelemahan teknologi

25 Apakah faktor-faktor yang menyebabkan munculnya cara hidup berkabilah dalam kalangan masyarakat Arab jahiliah?

- I Kegiatan keagamaan
- II Keadaan geografi
- III Semangat assabiah
- IV Mematuhi arahan pemimpin

- A I dan II
- B I dan IV
- C II dan III
- D III dan IV

26 Maklumat berikut merujuk kepada tokoh yang mempunyai hubungan kekeluargaan dengan Nabi Muhammad s.a.w.

Tokoh	Hubungan
Abdul Muttalib	Datuk
Abu Talib	Bapa saudara

Apakah persamaan kedua-dua tokoh di atas?

- A Memelihara Nabi
- B Mengajar Nabi berniaga
- C Meramal kerasulan Nabi
- D Memberi modal untuk berdagang

27 Apakah keistimewaan Nabi Muhammad s.a.w. yang menyebabkan Siti Khatijah melantik baginda menguruskan perniagaannya?

- A Mempunyai modal
- B Keperibadian yang mulia
- C Hubungan dengan pedagang luar
- D Berwibawa dalam urusan matawang

28

Tarikh	Peristiwa
6 Ogos 610 M (17 Ramadhan)	Wahyu pertama kepada Nabi Muhammad s.a.w.

Peristiwa di atas menunjukkan

- A kemunculan kerajaan Islam
- B agama Islam disebarikan secara terbuka
- C bermulanya penentangan Arab Quraisy
- D pemisahan Zaman Jahiliah dengan Zaman Islam

29 Mengapakah golongan bawahan merupakan golongan awal yang memeluk agama Islam di Kota Makkah?

- A Ingin ketenangan
- B Layanan yang adil
- C Mendapat ganjaran
- D Kekuatan iman

30 Mengapakah orang Arab Quraisy menentang ajaran Islam yang disampaikan oleh Nabi Muhammad s.a.w?

- A Perbezaan kepercayaan
- B Sukar memahami ajaran Islam
- C Terpengaruh dengan kaum Yahudi
- D Bimbang kehidupan terancam

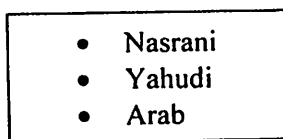
31 Rajah di bawah berkaitan dengan tindakan yang pernah diambil oleh Nabi Muhammad s.a.w dan umatnya.



Mengapakah Nabi Muhammad s.a.w. dan umatnya mengambil tindakan tersebut?

- A Mengukuhkan keimanan
- B Cadangan dari penduduk kota Makkah
- C Meredakan tentangan orang Quraisy
- D Kawasan tersebut belum mempunyai agama

32 Rajah di bawah menunjukkan tiga golongan penduduk Madinah sebelum penghijrahan Nabi Muhammad s.a.w.



Mengapakah kehidupan penduduk Madinah kurang aman?

- I Ancaman kuasa luar
- II Penguasaan ekonomi oleh orang Yahudi
- III Pergeseran di kalangan suku Arab
- IV Pemimpin yang tidak adil

- A I dan II
- B I dan IV
- C II dan III
- D III dan IV

- 33 Perjanjian berikut memainkan peranan penting membantu perkembangan dakwah Islamiah.

PERJANJIAN AQABAH KEDUA	
Tahun	622 Masehi
Tempat	Bukit Aqabah
Kehadiran	<ul style="list-style-type: none"> <li>• Nabi Muhammad s.a.w</li> <li>• Wakil suku Aus dan Khazraj</li> </ul>

Apakah kesan perjanjian di atas?

- A Penghijrahan umat Islam  
 B Pembukaan kota Makkah  
 C Peluasan kuasa  
 D Penentangan puak Quraisy Makkah
- 34 Jadual berikut menunjukkan tokoh yang memberi sokongan kepada penghijrahan Rasulullah ke Madinah.

Tokoh	Sokongan
Ali Abu Talib	Tidur di tempat Rasulullah
Asma Abu Bakar	Menghantar makanan

Apakah nilai murni yang boleh dicontohi daripada tokoh tersebut?

- A Toleransi  
 B Berhemah tinggi  
 C Pengorbanan  
 D Bersatu padu
- 35 Mengapakah orang Islam berhijrah dari kota Makkah ke Madinah?
- A Desakan orang Quraisy Makkah  
 B Keistimewaan kota Madinah  
 C Membentuk masyarakat pelbagai kaum  
 D Menerima jemputan masyarakat Madinah
- 36 Sebaik berhijrah ke Madinah, langkah pertama Nabi Muhammad s.a.w ialah membina Masjid al-Nabawi.

Mengapakah baginda berbuat demikian?

- A Membuktikan keimanan  
 B Menandakan kekuatan agama Islam  
 C Tempat menjalankan pelbagai aktiviti  
 D Kawasan persinggahan musafir

- 37 Pernyataan berikut merujuk peristiwa peperangan yang berlaku dalam sejarah perjuangan mempertahankan Islam.

- Perang Badar
- Perang Uhud
- Perang Khandak

Rumusan daripada peristiwa peperangan yang berlaku pada zaman Nabi Muhammad s.a.w ialah Islam mementingkan


- A sifat toleransi  
B perdamaian  
C nilai murni  
D maruah agama
- 38 Apakah kandungan Perjanjian Hudaibiyah yang mengakibatkan Nabi Muhammad s.a.w dapat merangka program dakwah?
- A Kebenaran mengerjakan umrah  
B Kebebasan memihak bagi orang Islam Madinah  
C Kebebasan memihak bagi kabilah Arab  
D Gencatan senjata selama 10 tahun
- 39 Mengapakah Nabi Muhammad s.a.w membuka semula kota Makkah?
- A Puak Quraisy melanggar Perjanjian Hudaibiyah  
B Menonjolkan kehebatan Islam  
C Mewujudkan pusat pemerintahan baru  
D Peluang menguasai bidang ekonomi
- 40 Maklumat berikut merupakan petikan khutbah terakhir Nabi Muhammad s.a.w.

“.....Hai manusia, saya telah meninggalkan kepada kamu satu pusaka dan kamu tidak akan sesat selama-lamanya selagi kamu masih berpegang kepada pusaka ini”.


Apakah pusaka tersebut?

- A Al-Quran dan qias  
B Al-Quran dan sunnah  
C Hadis dan qias  
D Hadis dan ijmak

1. Perhatikan gambar berikut!



2. Perhatikan gambar berikut!



3. Perhatikan gambar berikut!



4. Perhatikan gambar berikut!

