

SULIT
2280/2
Geografi
Kertas 2
SEPT 2007
2 jam

LOGO DAN NAMA SEKOLAH

JABATAN PELAJARAN NEGERI PAHANG

PEPERIKSAAN BERSAMA PERCUBAAN SPM 2007
TINGKATAN 5

GEOGRAFI

Kertas 2
Dua Jam

JANGAN BUKA KERTAS SOALAN INI SEHINGGA DIBERITAHU

1. *Jawab semua soalan*
2. *Jawapan hendaklah ditulis dalam ruang yang disediakan dalam kertas soalan*
3. *Jawapan kedua-dua bahagian ini hendaklah diserahkan bersama.*
4. *Peta yang diberikan dalam kertas soalan ini, jika digunakan, hendaklah diikat bersama-sama dengan kertas jawapan lain..*
5. *Penggunaan kalkulator dibenarkan.*

3	
4	
5	
6	
7	
8	
9	
10	
11	
JUMLAH MARKAH	

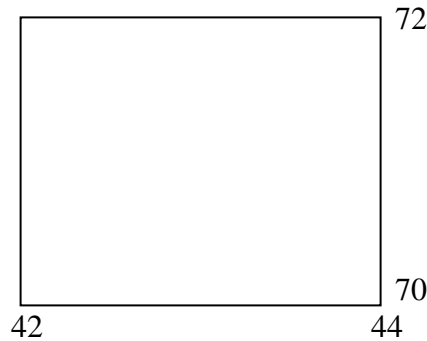
Untuk Kegunaan Pemeriksa		
	Soalan	Markah
	1	
	2	

Bahagian A

[40 markah]

Jawab semua soalan di bahagian ini.

Soalan 1 hingga **Soalan 5** berdasarkan peta topo siri 2280/2/2006. Kaki peta ini dengan telita sebelum menjawab soalan berikutnya.



1 (a) Luas kawasan penanaman padi dalam kawasan segi empat grid di atas ialah
km persegi

[2 markah]

(b) Dua simbol kawasan yang terdapat dalam persegi grid tersebut ialah

(i)

(ii)

[2 markah]

(c) Nyatakan empat faktor dari bukti peta yang menggalakkan penanaman padi tersebut.

(i)

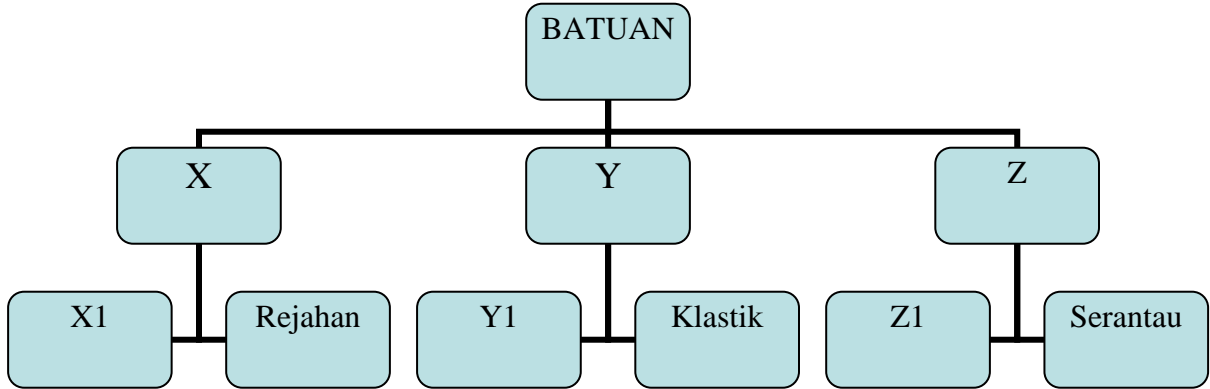
(ii)

(iii)

(iv)

[4 markah]

- 2 (a) Namakan puncak yang tertinggi yang terdapat di kawasan timar laut peta.
 [1 markah]
- (b) Ketinggian puncak itu ialah
meter [1 markah]
- 3 Saliran yang mengalir di bahagian timur laut peta mempunyai pola
 [2 markah]
- 4 (a) Nyatakan tiga fungsís pekan Asam (RG 4164) kepada kawasan sekitarnya.
 (i)
 (ii)
 (iii) [3 markah]
- (b) Panjang lebuh raya kembar dari RG 419610 hingga ke RG 420650 ialah
kilometer [2 markah]
- 5 Jelaskan tiga faktor yang mempengaruhi taburan penduduk jarang di kawasan timar laut peta.
 (i).....
 (ii)
 (iii) [3 markah]



6 Berdasarkan rajah di atas;

- (a) Namakan batuan : X
- Y
- Z

[3 markah]

(b) Batuan X, Y dan Z terdiri daripada beberapa jenis. Namakan jenis batuan

- X1
- Y1
- Z1

[3 markah]

(c) Nyatakan dua ciri batuan Y.

- (i)
- (ii)

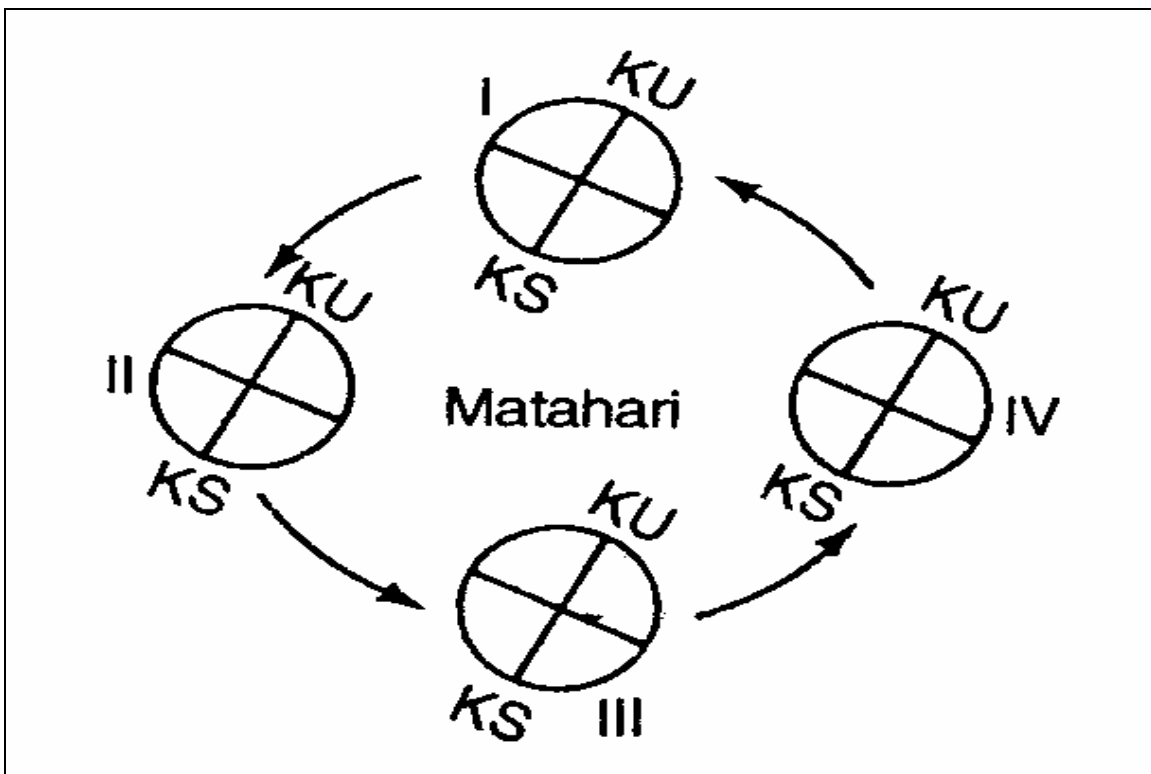
[2 markah]

(d) Batuan X dan Y boleh bertukar kepada batuan Z disebabkan oleh dua faktor. Nyatakan dua faktor tersebut.

(i)

(ii)

[2 markah]



7 (a) Namakan jenis pergerakan bumi seperti dalam rajah di atas.

.....

[1 markah]

(b) Satu pergerakan bumi yang lengkap seperti dalam rajah di atas mengambil masa selama

.....hari

[1 markah]

- (c) Nyatakan tarikh apabila bumi berada di kedudukan
- (i) II
 - (ii) IV [2 markah]
- (d) Nyatakan di manakah kedudukan bumi apabila fenomena berikut berlaku.
- (i) Hemisfera selatan mengalami 24 jam siang.
 - (ii) Hemisfera utara mengalami musim bunga
 - (iii) Hemisfera utara mengalami siang lebih panjang daripada malam
..... [3 markah]
- (e) Nyatakan tiga kesan yang berlaku akibat pergerakan bumi seperti dalam rajah di atas.
- i)
 - (ii)
 - (iii) [3 markah]

Bahagian B

[60 markah]

*Jawab tiga soalan daripada bahagian ini.***SUMBER PANTAI DAN MARIN**

- 8 (a) Jelaskan kepentingan sumber di atas kepada ekonomi dan sosial sesebuah negara. [7 markah]
- (b) Terangkan kegiatan manusia yang boleh menyebabkan sumber di atas mengalami kerosakan atau kemusnahan. [6 markah]
- (c) Huraikan langkah-langkah yang dijalankan untuk memelihara dan memulihara sumber di atas. [7 markah]

Tahun	1980	1985	1990	1995
Kadar Kelahiran	2.58	2.36	2.32	2.30
Kadar Kematian	0.94	0.85	0.57	0.42

Jadual 1: Kadar Kelahiran dan Kadar Kematian di NegaraX

- 9 (a) Berdasarkan jadual di atas, kirakan kadar pertumbuhan penduduk semulajadi di Negara X bagi tahun 1980, 1985, 1990 dan 1995. [4 markah]
- (b) Terangkan faktor-faktor yang mempengaruhi taburan penduduk yang padat di sesuatu kawasan di sesebuah negara. [6 markah]
- (c) (i) Jelaskan masalah-masalah yang timbul akibat berlaku lebih penduduk di sesebuah negara. [5 markah]

- (ii) Terangkan langkah-langkah yang boleh diambil bagi mengatasi masalah akibat lebih penduduk tersebut.

[5 markah]

10

Jenis industri	Nilai Eksport (RM juta)
Industri automotif	2 600
Industri kayu	10 200
Industri getah	5 400
Industri kelapa sawit	12 300
Industri menapis petroleum	8 400
Industri makanan	6 200

Nilai eksport produk pembuatan Malaysia tahun 2000

- (a) Dengan menggunakan skala 1 cm mewakili RM 1 000 juta, lukis sebuah graf bar yang menunjukkan nilai eksport produk pembuatan Malaysia tahun 2000.

[7 markah]

- | | |
|------------------------------------|-----------------------------|
| • Industri petrokimia | – Petaling Jaya
Selangor |
| • Industri elektrik dan elektronik | – Prai Pulau Pinang |

- (b) Huraikan faktor-faktor yang mempengaruhi perkembangan sektor pembuatan di kawasan di atas.

[7 markah]

- (c) Jelaskan langkah-langkah untuk mengurangkan kesan terhadap alam sekitar akibat perkembangan sektor pembuatan.

[6 markah]

- 11 (a) Di atas peta No 1 pada halaman xx, namakan
- (i) jenis tanaman bertanda A dan B
 - (ii) pelabuhan bertanda C dan D
- [4 markah]
- (b) (i) Jelaskan kepentingan kegiatan penanaman kelapa sawit kepada pembangunan ekonomi dan sosial negara Malaysia.
- [6 markah]
- (ii) Terangkan kesan kegiatan penanaman tersebut terhadap alam sekitar.
- [5 markah]
- (c) Huraikan kepentingan kerjasama perdagangan antarabangsa kepada negara Malaysia.
- [5 markah]

KERTAS SOALAN TAMAT

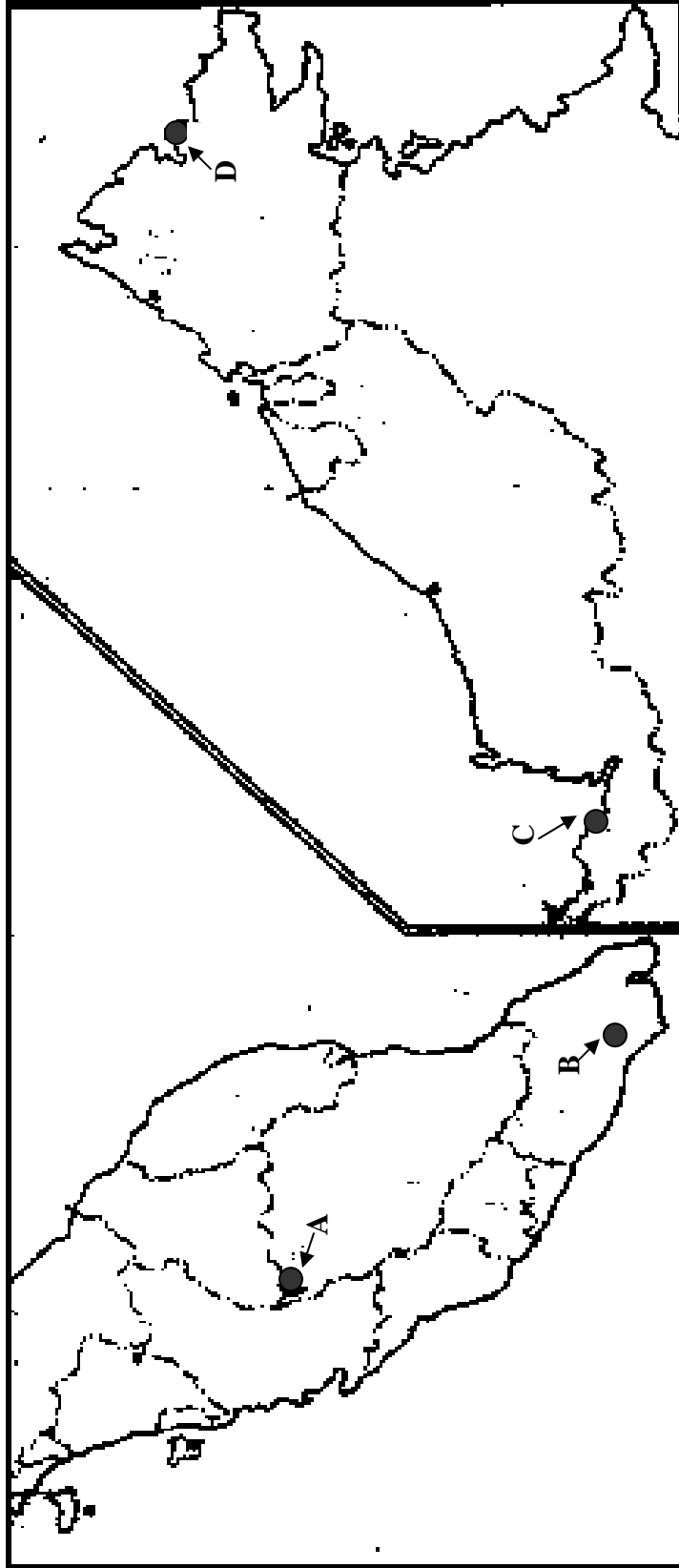
No. Kad Pengenalan:.....

Angka Giliran:.....

PEPERIKSAAN PERCUBAAN SPM GEOGRAFI 2

Peta No. 1 Soalan No. 11

(Hendaklah diikat bersama dengan kertas jawapan lain)



A	B	D
C		