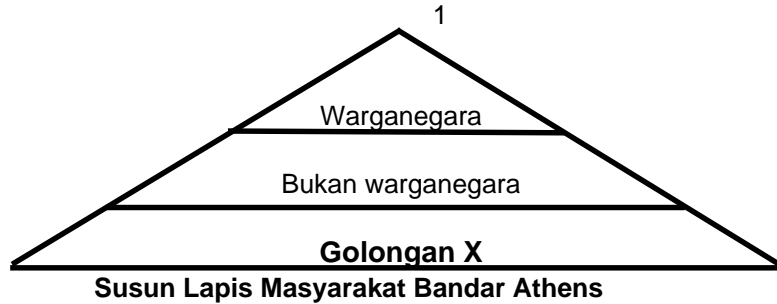


**Raja Mesopotamia  
Raja Mesir**

- 1 Bagaimanakah pemerintah di atas mengukuhkan kuasa politik mereka?  
A membina kuil untuk tujuan pemujaan spiritual  
B menghapuskan musuh-musuh politik secara kejam  
C mengamalkan konsep raja yang bersifat ketuhanan  
D melantik penasihat dalam kalangan pendeta dan bangsawan
- 2 Apakah sumbangan tamadun Mesopotamia kepada peradaban manusia?  
I sistem perundangan bertulis tertua di dunia  
II memperkenalkan operasi matematik  
III merekodkan senarai ubat-ubatan  
IV mewariskan sistem perancangan bandar
- A I, II dan III  
B I, II dan IV  
C I, III dan IV  
D II, III dan IV
- 3 Apakah usaha yang dijalankan oleh Maharaja Shi Huang Ti untuk menyatupadukan negara China?  
A mengekalkan sistem pemerintahan feudal  
B menyekat golongan petani terlibat dalam politik  
C membakar buku-buku yang dikarang Confucius  
D melarang panglima tentera terlibat dalam pentadbiran

**Rumah berhala yang besar.  
Teater untuk membuat pertunjukan.**

- 4 Berdasarkan keterangan di atas, yang manakah mempunyai kemudahan di atas?  
A Acropolis  
B Cilozeum  
C Pantheon  
D Parthenon



5 Apakah gelaran kumpulan masyarakat di bandar Sparta yang disamakan dengan golongan bertanda X dalam rajah di atas?

- A golongan Helot
- B golongan Mudejars
- C golongan Gimmi
- D golongan Sophis

<b>Kerajaan Awal Di Asia Tenggara</b>	
<b>Abad Ke-5 Masihi</b>	<b>Kerajaan Kedah Tua</b>
<b>Abad Ke-7 Masihi</b>	<b>Kerajaan Melayu Srivijaya</b>

6 Apakah faktor-faktor yang mempengaruhi kemajuan kedua-dua buah kerajaan di atas?

- A konsep raja berasaskan prinsip ketuhanan
- B kemajuan kegiatan perdagangan antarabangsa
- C pihak pemerintah yang bijaksana dan berwibawa
- D perlindungan daripada kerajaan Ming di China

**Maharaja** itu amat masyhur namanya. Baginda menetapkan **tatacara** pemerintahan. Rakyat hidup bebas tanpa **samsara**.

7 Apakah pengaruh luar yang ditunjukkan oleh huruf yang bercetak tebal?

- A bahasa Arab
- B bahasa Telegu
- C bahasa Tamil
- D bahasa Sanskrit

**Nabi Muhammad s.a.w. terkenal sebagai seorang insan yang memiliki sifat-sifat siddiq. Perkara ini diakui sendiri oleh orang Arab Quraisy**

8 Apakah bukti yang boleh dikemukakan untuk menyokong pendapat di atas?

- I Rasulullah s.a.w. tidak berbohong kepada sesiapa
- II Rasulullah s.a.w. mendapat nama jolokan al-Amin
- III Rasulullah s.a.w. bijak mengatasi masalah batu Hajar Aswad
- IV Rasulullah s.a.w. diberi modal besar oleh Khadijah untuk berniaga

- A I dan II
- B II dan III
- C III dan IV

Setelah penyebaran Islam mula mendapat tempat dalam kalangan penduduk Makkah, orang Arab Quraisy mula melancarkan penentangan apatah lagi pengaruh Islam semakin meluas.

9 Apakah faktor-faktor yang mempengaruhi pendirian orang Arab Quraisy di atas?

- I mereka iri hati dengan kejayaan penyebaran Islam
- II mereka ingin melindungi industri membuat berhala
- III mereka takut kuasa politik jatuh ke tangan keluarga nabi
- IV mereka bimbang amalan riba tidak dibenarkan lagi

- A I, II dan III
- B I, II dan IV
- C I, III dan IV
- D II, III dan IV

Hamba sahaya yang memeluk Islam diseksa dengan kejam. Mereka dijemur di tengah panas. Tidak diberi makan minum.

10 Apakah keputusan yang diambil oleh Rasulullah s.a.w. untuk menghadapi situasi itu?

- A mendapatkan bantuan daripada Abdul Mutalib
- B mengadakan dakwah dan seruan Islam di Taif
- C mengajak penganut Islam bersatu-padu
- D menubuhkan pasukan tentera melindungi orang Islam

11 Apakah pendekatan yang diperkenalkan dalam Perlembagaan Madinah untuk menyatukan penduduk yang berbilang kaum?

- A penduduk diberi jaminan kebebasan beragama
- B mengimbangkan agihan pendapatan rakyat
- C mengutip zakat untuk membantu golongan miskin
- D menghapuskan penindasan dan penipuan dalam perniagaan

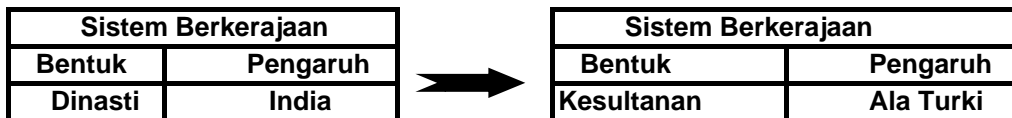
12 Apakah pertimbangan yang perlu diambil oleh Majlis Syura dalam menentukan penyandang jawatan khalifah?

- I latar belakang keturunan sesebuah kabilah
- II calon lelaki yang memiliki status merdeka
- III mempunyai tubuh badan yang sihat
- IV tidak berat sebelah dalam membuat keputusan

- A I, II dan III
- B I, II dan IV
- C I, III dan IV
- D II, III dan IV

Peringkat Pentadbiran	Gelaran Penyandang Jawatan	Tugas
Wilayah	Gabenor	Mengetuai pentadbiran wilayah
Pusat	X	Mengetuai jabatan kerajaan di bahagian pusat.

- 13 Apakah gelaran penyandang jawatan X yang diwujudkan pada zaman kerajaan Bani Umaiyah?
- A Baitul Hikmah  
 B Diwanul Khatim  
 C Khalifah  
 D Wazir

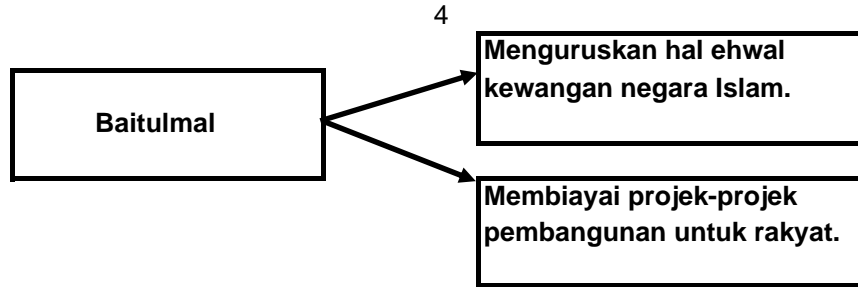


- 14 Apakah faktor yang mencetuskan perubahan sistem berkerajaan di Asia Tenggara seperti yang ditunjukkan dalam rajah di atas?
- I berakhirnya pemerintahan secara dewa raja  
 II kejatuhan kerajaan Melayu Majapahit  
 III kebangkitan gerakan pemulihan Islam  
 IV pengislaman raja-raja yang memerintah
- A I dan II  
 B II dan III  
 C III dan IV  
 D I dan IV

**Umat Islam sewajarnya bersatu dalam menghadapi ancaman dan persaingan daripada kuasa-kuasa penjajah dari Barat. Kesucian agama Islam mesti dipertahankan setiap masa.**

**Syeikh Nuruddin al-Raniri**

- 15 Apakah saluran yang digunakan oleh golongan ulama di Aceh bagi menyebarkan semangat seperti petikan di atas?
- A mendirikan lebih banyak sekolah madrasah  
 B memberi pendidikan agama kepada kanak-kanak  
 C menggalakkan penulisan kitab-kitab agama  
 D memperkasa pendidikan di sekolah-sekolah pondok



16 Apakah sumber-sumber yang disalurkan kepada baitulmal untuk menjalankan kegiatan di atas?

- I bayaran zakat fitrah
- II harta rampasan perang
- III harta milik negara
- IV pungutan zakat harta

- A I, II dan III
- B I, II dan IV
- C I, III dan IV
- D II, III dan IV

**Masyarakat Melayu tradisional mendidik anak secara tidak formal untuk menerapkan pengetahuan, kemahiran dan amalan hidup yang baik.**

17 Apakah pendekatan yang digunakan untuk melaksanakan kaedah pendidikan di atas?

- A menghantar anak mengaji dengan tok guru
- B menerima pendidikan di sekolah madrasah
- C menyampaikan cerita jenaka dan penglipur lara
- D menghantar anak belajar di sekolah pondok

**Ratu Isabella dan Raja Ferdinand  
Putera Henry Dari Portugal**

18 Apakah perkara yang menjadi tumpuan raja-raja di atas?

- A membiayai pelayar-pelayar untuk datang ke timur
- B menaja projek-projek penyelidikan saintifik
- C menjadi penaung kepada kegiatan kesenian
- D mematahkan gerakan pembaharuan agama Kristian

Tahun	Nama Akta	Keluasan Tanah Yang Dipagari
1761 hingga 1792	Akta Pemagaran Tanah	500 000 ekar tanah

19 Apakah perubahan yang dialami oleh sektor pertanian di Britain selepas akta di atas dilaksanakan?

- I kegiatan pertanian diusahakan secara besar-besaran

- II petani kecil-kecilan diambil bekerja di ladang
- III aktiviti pertanian bermotifkan keuntungan
- IV sistem tanah awam telah dikekalkan

5

- A I, II dan III
- B I, II dan IV
- C I, III dan IV
- D II, III dan IV

Tahun	Pemodal Eropah	Pemodal Cina
1910	22%	78%
1920	36%	64%
1930	63%	37%

20 Apakah pengajaran yang boleh diperolehi daripada perubahan yang dialami oleh pemodal Cina dalam industri perlombongan di Tanah Melayu?

- I pengusaha yang berjaya perlu menguasai ilmu
- II pembaharuan kaedah pengeluaran perlu dilakukan
- III pengusaha mesti sanggup meneroka teknologi baru
- IV sekatan perlu dikenakan bagi menghapuskan pesaing

- A I, II dan III
- B I, II dan IV
- C I, III dan IV
- D II, III dan IV

21 Antara peristiwa berikut, yang manakah mempercepat proses peluasan pengaruh kuasa-kuasa imperialis Barat di Asia Tenggara?

- A kekalahan Rusia dalam Perang Rusia-Jepun
- B kejayaan revolusi politik di negara-negara Barat
- C pembukaan Terusan Suez di Timur Tengah
- D kemajuan sistem pengangkutan kapal layar

- |  |
|--|
| <ul style="list-style-type: none"> <li>I gerakan dakyah yang dipelopori Jose Rizal</li> <li>II pemberontakan Saya San di Burma</li> <li>III kebangkitan Maharaja Lela di Pasir Salak</li> <li>IV perjuangan Soekarno menentang Belanda di Indonesia</li> </ul> |
|--|

22 Berdasarkan senarai peristiwa di atas, yang manakah menepati pengertian konsep nasionalisme?

- A I, II dan III
- B I, II dan IV
- C I, III dan IV
- D II, III dan IV

Tahun	Peristiwa
1895	Rundingan dengan Syarikat Borneo Utara British

1897

Menyerang kubu penjajah di  
Pulau Gaya

6

23 Tokoh pejuang tempatan yang boleh dikaitkan dengan perjuangan di atas ialah:

- A Datu Patinggi Abdul Gapur
- B Mat Salleh
- C Pak Musa
- D Syarif Masahor

Judul Buku	Pengarang	Saranan
The Prince	Niccolo Machiavelli	Pendekatan Realpolitik

24 Apakah dasar perjuangan seorang ahli politik yang terpengaruh dengan judul buku di atas?

- A rundingan
- B diplomasi
- C tipu muslihat
- D pengintipan

**Kesultanan Melayu Melaka telah diiktiraf sebagai negara bangsa menjelang awal abad ke-15.**

**Sejarawan Tempatan**

25 Apakah perkara yang diusulkan oleh sejarawan itu untuk mempertahankan hujahnya?

- I Melaka merupakan sebuah empayar besar
- II pelabuhan Melaka dikunjungi pedagang serata dunia
- III Melaka mendapat status sebagai pusat pengajian Islam
- IV wujudnya sistem perundangan yang tersusun

- A I dan II
- B II dan III
- C III dan IV
- D I dan IV

1895	Perlembagaan Bertulis Johor
1911	Undang-Undang Tubuh Terengganu

26 Apakah syarat-syarat yang ditetapkan untuk memilih pengganti sultan bagi kedua-dua undang-undang tubuh negeri di atas?

- I adik kepada sultan jika sultan tidak berputera
- II pengganti sultan mestilah berdarah raja
- III mendapat persetujuan Penyimpan Mohor Besar
- IV putera lelaki sultan dan beragama Islam

- A I, II dan III
- B I, II dan IV

- C I, III dan IV
- D II, III dan IV

7

**UMNO bersedia menerima keahlian daripada kalangan orang bukan Melayu demi mencapai perpaduan antara kaum.  
Dato' Onn Jaafar 1951**

- 27 Mengapakah orang Melayu menolak cadangan tersebut?
- A perkara tersebut tidak dirundingkan terlebih dahulu
  - B orang Melayu mahu UMNO kekal sebagai parti Melayu
  - C orang Melayu takut kedudukan agama Islam terjejas
  - D pandangan Dato' Onn Jaafar itu bersifat peribadi

**Kerajaan Parti Perikatan telah meminda beberapa cadangan dalam laporan Suruhanjaya Reid demi memelihara keharmonian kaum dan kedudukan orang Melayu terjamin.  
Presiden Parti Perikatan**

- 28 Apakah perkara-perkara yang tergolong dalam pindaan yang dikemukakan oleh Parti Perikatan itu?
- I penubuhan kerajaan bersekutu
  - II agama Islam sebagai agama rasmi
  - III kedaulatan bahasa Melayu
  - IV kerakyatan dengan hak sama rata
- A I, II dan III
  - B I, II dan IV
  - C I, III dan IV
  - D II, III dan IV

**Satu pertiga bersetuju menerima Malaysia.  
Satu pertiga ingin merdeka dulu sebelum masuk Malaysia.  
Baki satu pertiga tidak menolak jika hak-hak mereka terjamin.  
Suruhanjaya Cobbold**

- 29 Apakah parti politik di Sarawak yang menerima hakikat laporan Suruhanjaya Cobbold di atas?
- A Parti Pesaka Anak Sarawak
  - B Parti Bersatu Rakyat Sarawak
  - C Parti Kebangsaan Sarawak
  - D Parti Perikatan Sarawak

Tahun	Dasar	Pemimpin
Januari 1963	Ganyang Malaysia	Presiden Soekarno, Indonesia

- 30 Mengapakah kerajaan Indonesia mengambil tindakan di atas?
- A mengelakkan perpecahan bangsa serumpun



- B ingin menyatukan Indonesia dengan Tanah Melayu
- C hasutan daripada Parti Komunis Indonesia
- D terpengaruh dengan desakan Amerika Syarikat

8

**Perubahan sempadan negeri.  
Kedudukan dan kemuliaan raja-raja Melayu.**

- 31 Apakah syarat yang perlu dipenuhi untuk membolehkan pindaan dilakukan ke atas perkara-perkara di atas?
- I perkenan diraja daripada DURBAR
  - II sokongan majoriti dua pertiga ahli parlimen
  - III persetujuan daripada parti pemerintah
  - IV mendapat persetujuan Yang Dipertua Negeri
- A I dan II  
B II dan III  
C III dan IV  
D I dan IV

**I setiap kerajaan negeri mempunyai kuasa autonomi  
II pemerintahan kerajaan negeri diketuai sultan  
III kerajaan negeri dan kerajaan pusat ditubuhkan  
IV hanya diwujudkan pilihan raya untuk kerusi parlimen**

- 32 Apakah perkara-perkara yang perlu dimasukkan untuk menubuhkan sebuah kerajaan bersekutu seperti Malaysia?
- A I, II dan III  
B I, II dan IV  
C I, III dan IV  
D II, III dan IV

**Perusahaan automobil nasional  
Industri besi keluli PERWAJA**

- 33 Apakah badan yang ditubuhkan oleh kerajaan untuk merintis kemajuan kedua-dua industri di atas?
- A Majlis Amanah Rakyat  
B Perbadanan Kemajuan Ekonomi Negeri  
C Pembangunan In-Situ  
D Perbadanan Industri Berat Malaysia

**Kerajaan bersedia memindahkan sebahagian atau sepenuhnya kepentingan dalam sesebuah syarikat kepada pihak swasta.**

- 34 Apakah badan yang menjadi penasihat kepada kerajaan dalam melaksanakan dasar di atas?
- A Perbadanan Kemajuan Ekonomi Negeri  
B Unit Perancangan Ekonomi

- C Bank Negara Malaysia
- D Permodalan Nasional Berhad

9

**Rukun Negara yang diisytiharkan pada 31 Ogos 1970 bertujuan memelihara keharmonian dan memupuk perpaduan dalam kalangan penduduk berbilang kaum di Malaysia.**

- 35 Apakah strategi yang disyorkan dalam Rukun Negara untuk mencapai matlamat tersebut?
- I memberi kebebasan beragama kepada rakyat
  - II menghormati peruntukan dalam perlembagaan
  - III menerapkan nilai-nilai murni dalam kehidupan
  - IV menyeragamkan sistem perundangan antara negeri
- A I, II dan III
  - B I, II dan IV
  - C I, III dan IV
  - D II, III dan IV
- 36 Mengapakah Ikerajaan Jerman pimpinan Aldolf Hitler tidak puas hati dengan Perjanjian Versailles?
- A Jerman tidak diajak menyertai rundingan
  - B kuasa-kuasa besar ingin menjatuhkan Hitler
  - C isu pembayaran pampasan oleh Jerman
  - D Perancis meluaskan pengaruhnya di Eropah

	<b>Dunia Kapitalis</b>	<b>Dunia Komunis</b>
<b>Negara yang memimpin</b>	<b>Amerika Syarikat</b>	<b>Rusia</b>
<b>Negara sekutu</b>	<b>Negara Eropah Barat</b>	<b>Negara Eropah Timur</b>

- 37 Apakah faktor yang mempengaruhi pembahagian negara-negara di dunia seperti dalam jadual di atas?
- A taraf sosial ekonomi yang tidak sama
  - B perbezaan dari segi ideologi politik
  - C perlumbaan senjata dalam kalangan kuasa besar
  - D keanggotaan dalam Majlis Keselamatan PBB

**Malaysia mempunyai hubungan yang rapat dengan negara-negara Barat terutama Britain pada peringkat awal kemerdekaannya.**

- 38 Mengapakah berlaku hal yang sedemikian?
- I ancaman komunis terhadap keselamatan negara
  - II getah dan bijih timah bergantung kepada pasaran Barat
  - III persaingan ideologi komunis dan demokrasi
  - IV Britain memiliki armada laut terbesar di dunia

- A I, II dan III
- B I, II dan IV
- C I, III dan IV
- D II, III dan IV

10

<b>Negara-Negara Islam Yang Menerima Bantuan Pertubuhan Persidangan Islam(OIC)</b>
<b>Sudan Nigeria Chad</b>

- 39 Apakah bentuk bantuan yang disalurkan oleh OIC ke negara-negara tersebut?
- A ubat-ubatan untuk mangsa pelarian
  - B latihan untuk memperkasa pasukan keselamatan
  - C tawaran biasiswa kepada para mahasiswa
  - D menyalurkan wang untuk membangunkan ekonomi

Tahun	Peristiwa
1971	Deklarasi Kuala Lumpur

- 40 Apakah keputusan yang diambil oleh anggota-anggota ASEAN berdasarkan persetujuan di atas?
- A mewujudkan kawasan zon perdagangan bebas
  - B menghapuskan dasar perlindungan perdagangan
  - C menjalin hubungan luar tanpa mengira ideologi
  - D menandatangani perjanjian pertahanan bersama

~ Kertas Soalan Tamat ~

