

SULIT

JABATAN PELAJARAN JOHOR



1249/1

**PEPERIKSAAN PERCUBAAN 2010
SIJIL PELAJARAN MALAYSIA
SEJARAH**

Kertas 1

September
1 jam

Satu Jam

JANGAN BUKA KERTAS SOALAN INI SEHINGGA DIBERTAHU

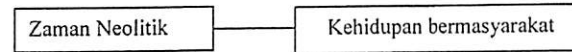
1. *Kertas soalan ini mengandungi 40 soalan.*
2. *Jawab semua soalan.*
3. *Jawab dengan menghilangkan ruangan yang betul pada kertas jawapan.*
4. *Hitamkan satu ruangan sahaja bagi setiap soalan.*
5. *Sekiranya anda hendak menukarkan jawapan, padamkan tanda yang telah dibuat. Kemudian hitamkan jawapan yang baru.*

Kertas soalan ini mengandungi 14 halaman bercetak

**ILihat sebelah
SULIT**

1249/1 © 2010 Ilak Cipta Jabatan Pelajaran Johor


- 1 Rajah 1 berkaitan dengan ciri masyarakat Zaman Neolitik.



Rajah 1

Apakah kesan ciri tersebut?

- A Penciptaan tembikar
 - B Pertukaran barang
 - C Pengkhususan kerja
 - D Penternakan binatang
- 2 Siapakah yang membantu golongan rahib dalam urusan pentadbiran tamadun Mesir Purba?
- A Tuan tanah
 - B Jurutulis
 - C Artisan
 - D Petani
- 3 Gambar 1 menunjukkan binaan acropolis di Yunani.



Gambar 1

Apakah tujuan binaan tersebut?

- A Keagamaan
- B Kesenian
- C Kepercayaan
- D Kepahlawanan

- 4 Apakah bentuk mata wang yang digunakan semasa Zaman Gupta di India?
- A Timah
B Perak
C Emas
D Gangsa
- 5 Apakah faktor yang menyebabkan kerajaan Angkor menjadi kerajaan yang kuat?
- A Kedudukan
B Ketenteraan
C Kemudahan
D Keselamatan
- 6 Apakah candi yang mempunyai ciri-ciri berikut?
- Melambangkan orde kosmos
 - Terdapat ukiran menggambarkan epik Ramayana dan Mahabharata
- A Borobudur
B Angkor Wat
C Prambanan
D Dieng
- 7 Khadijah binti Khuwailid merupakan isteri Nabi Muhammad s.a.w. yang digelar *al-thaharah*.
Mengapakah beliau diberi gelaran tersebut?
- A Sentiasa menjauhi maksiat
B Sentiasa patuh perintah Allah
C Sering jujur dalam perniagaan
D Sering membantu Nabi Muhammad s.a.w.

- 8 Apakah tujuan penghijrahan Nabi Muhammad s.a.w. ke Habsyah?
- A Menyebarkan ajaran Islam
B Mendapat perintah Allah
C Merancang strategi
D Mendapatkan perlindungan
- 9 Golongan Ansar sentiasa memberi bantuan dan kerjasama kepada golongan Muhajirin.
Apakah bukti yang menunjukkan sikap tersebut?
- I Menjaga maruah
II Menyediakan modal
III Menjaga keselamatan
IV Membantu perniagaan
- A I dan II
B I dan IV
C II dan III
D III dan IV
- 10 Apakah kandungan Perjanjian Hudaibiyah yang mengakibatkan Nabi Muhammad s.a.w. dapat merangka program dakwah?
- A Kebenaran mengerjakan umrah
B Kebebasan memihak bagi orang Islam Madinah
C Kebebasan memihak bagi kabilah Arab
D Gencatan senjata selama 10 tahun
- 11 Kerajaan Bani Umayyah telah berjaya melakukan penyelidikan dalam bidang pertanian.
Apakah kemajuan tersebut?
- A Menggunakan baja asli
B Mencipta peralatan moden
C Mendapatkan benih berkualiti
D Mengusahakan tanah terbiar

- 12 Apakah dasar yang diamalkan oleh Kerajaan Uthmaniyah ke atas jajahannya di Balkan?
- A Birokrasi
 - B Diplomasi
 - C Berkecuali
 - D Berbaik-baik
- 13 Apakah peranan syahbandar di beberapa bandar pelabuhan di Asia Tenggara?
- A Membantu menyebarkan Islam
 - B Menkuatkuasakan sistem sukat
 - C Mewujudkan sistem cukai
 - D Mengharamkan riba
- 14 Mengapakah undang-undang syariah tidak dapat dilaksanakan sepenuhnya oleh pemimpin kerajaan Islam Asia Tenggara?
- A Terpengaruh dengan undang-undang Barat
 - B Terikat dengan undang-undang keluarga
 - C Terikat dengan undang-undang adat
 - D Tekanan kerajaan bukan Islam
- 15 Ulama tempatan telah mengubahsuai huruf Arab dalam al-Quran bagi menulis perkataan Melayu sejak abad ke-15.
- Apakah implikasi terhadap pengubahsuaian tersebut?
- A Mewujudkan tulisan jawi
 - B Perkembangan tulisan kawi
 - C Mewujudkan pelbagai karya
 - D Perkembangan kesusasteraan

- 16 Gambar 2 menunjukkan mata wang timah Kedah berbentuk seekor ayam jantan yang hinggap di atas beberapa cincin.



Gambar 2

- Apakah keunikan mata wang tersebut?
- A Boleh dijadikan perhiasan
 - B Tertera nama sultan
 - C Tertera tulisan jawi
 - D Boleh dipatahkan
- 17 Bagaimanakah Revolusi Pertanian memberi sumbangan kepada perkembangan Revolusi Perindustrian di Britain?
- A Menyediakan modal
 - B Menyediakan bahan mentah
 - C Meningkatkan daya kreativiti
 - D Memperkembang sains dan teknologi
- 18 Apakah implikasi kemasukan buruh luar yang dibawa masuk oleh kuasa Barat ke Asia Tenggara?
- A Penglibatan dalam politik
 - B Perubahan komposisi etnik
 - C Penempatan yang sistematik
 - D Penggunaan pelbagai dialek

19 Senarai berikut merupakan individu yang memainkan peranan dalam kemasukan buruh ke Tanah Melayu.

- kkeh-thau
- kangani

Apakah ciri persamaan mereka?

- A Membekal buruh
- B Mendirikan sekolah
- C Membangunkan bandar
- D Meningkatkan infrastruktur

20 Mengapakah urus niaga berikut sukar dilaksanakan dalam kalangan masyarakat Melayu tradisional?

- Pajakan
- Sewa beli
- Penjualan

- A Larangan adat
- B Hak mutlak raja
- C Sekatan pembesar
- D Rekod pemilikan tiada

21 Mengapakah negara India dan China menjadi sasaran imperialisme Barat?

- A Pasaran yang luas
- B Sistem politik stabil
- C Kedudukannya strategik
- D Kekayaan bahan mentah

22 Mengapakah penduduk Filipina membenci sistem Encomienda?

- I Kerahan tenaga
- II Cukai yang tinggi
- III Tekanan ekonomi
- IV Sistem kehakiman

- A I dan II
- B I dan IV
- C II dan III
- D III dan IV

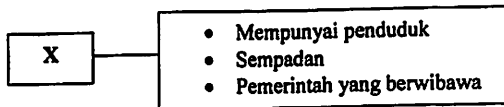
23 Apakah matlamat perjuangan Gerakan Islah di Tanah Melayu?

- A Menyebarkan agama Islam
- B Mengembalikan hak umat Islam
- C Memperkenalkan perundangan Islam
- D Membetulkan pandangan terhadap Islam

24 Apakah implikasi Kongres Melayu pada tahun 1939 dan 1940 ke atas orang Melayu?

- A Kemajuan pendidikan
- B Perkembangan karya sastera
- C Penglibatan dalam pentadbiran
- D Perasaan kenegerian dapat diatasi

25 Rajah 2 menerangkan ciri sebuah negara dan bangsa.



Rajah 2

Apakah X?

- A Bangsa
 - B Negara
 - C Kerajaan
 - D Perlembagaan
- 26 British menjadikan Sabah jajahan takluknya pada tahun 1946.
Mengapakah penduduk tempatan tidak menentang?
- A Persatuan bersifat sederhana
 - B Menekankan tindakan politik
 - C Pemimpin tidak bersatu padu
 - D Persatuan lebih berorganisasi

27 Jadual 3 berkaitan dengan penentangan penduduk tempatan terhadap pengisytiharan Sarawak oleh British.

| | |
|-----------|-----------------------------------------------------------------------------------|
| Tarikh | 8 Februari 1946 |
| Peristiwa | Penentangan oleh Persatuan Melayu Sarawak (PMS) dan Persatuan Dayak Sarawak (PDS) |

Jadual 3

Mengapakah penentangan tersebut berlaku?

- I Bercanggah dengan adat tempatan
 - II Bercanggah dengan Perlembagaan 1941
 - III Orang tempatan tidak dibawa berunding
 - IV Orang tempatan tidak terlibat dalam pentadbiran
- A I dan II
 - B I dan IV
 - C II dan III
 - D III dan IV
- 28 Apakah tujuan Sistem Ahli dilaksanakan dari bulan Januari 1951 hingga Jun 1955?
- A Menuntut kemerdekaan negara
 - B Menghasilkan kerjasama politik
 - C Menyelesaikan perpaduan antara kaum
 - D Melatih orang tempatan berkerajaan sendiri

[Lihat sebelah
SULIT

- 29 Pernyataan berikut menunjukkan keputusan Pilihan Raya Majlis Perundangan Persekutuan 1955.

| |
|-------------------------------------------------|
| Parti Perikatan menang 51 daripada 52 kerusi |
|-------------------------------------------------|

Apakah jawatan yang disandang oleh Tunku Abdul Rahman setelah Parti perikatan memenangi pilihan raya tersebut?

- A Presiden
B Menteri Besar
C Ketua Menteri
D Perdana Menteri
- 30 Mengapakah Lee Kuan Yew mendesak British menggabungkan Singapura dengan Persekutuan Tanah Melayu?
- A Memajukan ekonomi
B Mengimbangi penduduk
C Menjamin kestabilan politik
D Membanteras ancaman komunis
- 31 Mengapakah tarikh pembentukan Malaysia ditunda pada 16 September 1963?
- A Halangan pihak komunis
B Tentangan Filipina dan Indonesia
C Tentangan Barisan Sosialis Singapura
D Halangan Parti Bersatu Rakyat Sarawak

[Lihat sebelah
SULIT

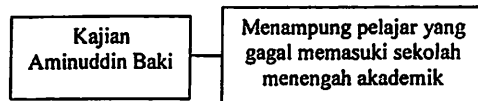
- 32 Maklumat berikut berkaitan dengan undang-undang di Malaysia.

| Akta | Enakmen | Ordinan |
|----------|-----------------------------------|-----------------------------------------|
| Parlimen | Dewan Undangan Negeri Semenanjung | Dewan Undangan Negeri Sabah dan Sarawak |

Apakah yang perlu dilakukan dalam proses meluluskan undang-undang di atas pada peringkat akhir?

- A Pewartaan
B Pembacaan ketiga
C Penurunan cap mohor
D Penyerahan rang undang-undang
- 33 Mengapakah Suruhanjaya Pilihan Raya ditubuhkan?
- A Memilih wakil rakyat
B Menyediakan manifesto parti
C Menjamin pilihan raya yang adil
D Menentukan calon yang bertanding
- 34 Apakah maksud bulan sabit berwarna kuning pada bendera kebangsaan?
- A Kedaulatan Raja-Raja Melayu
B Perpaduan rakyat berbilang kaum
C Agama Islam sebagai agama rasmi
D Melambangkan semangat keberanian
- 35 Apakah gambaran yang diperoleh melalui lirik lagu kebangsaan?
- A Kemajuan negara
B Kesetiaan rakyat
C Unsur kemelayuan
D Semangat perpaduan

36 Apakah sistem persekolahan yang dilaksanakan selepas kajian berikut dibuat?



- A Dua bahasa pengantar
 B Pendidikan percuma
 C Sekolah vernakular
 D Aneka jurusan
- 37 Mengapakah program pembangunan in-situ diperkenalkan?
- A Merangsang pembangunan industri
 B Memudahkan operasi sektor swasta
 C Meningkatkan pendapatan sektor pertanian
 D Memulihkan kawasan berproduktiviti rendah
- 38 Maklumat berikut menerangkan perubahan dasar luar Malaysia.

| Tahap 1 | Tahap 2 |
|---------------------------------|-------------------------------------------------------|
| Dasar pro-Barat dan antikomunis | Dasar berkecuali dan terbaik-baik dengan semua negara |

Mengapakah berlakunya perubahan tersebut?

- A Krisis dengan Indonesia
 B Pergolakan di Vietnam
 C Pergantungan kepada Britain
 D Pengaruh komunis di Malaysia

39 Mengapakah pertubuhan ASA dibubarkan pada tahun 1963?

- A Ancaman komunis
 B Penubuhan Malaysia
 C Campurtangan asing
 D Konfrontasi Indonesia

40 Pernyataan berikut berkaitan dengan globalisasi.

Perubahan yang menjadikan dunia tanpa sempadan

Apakah faktor yang membawa kepada perubahan tersebut?

- A Pelaksanaan sistem pasaran bebas
 B Kemunculan negara maju
 C Kemajuan teknologi maklumat
 D Pergantungan terhadap kuasa besar

KERTAS SOALAN TAMAT