

PRINSIP PERAKAUNAN

Kertas 1

Ogos / Sept.

2010

1 ¼ jam

**JABATAN PELAJARAN NEGERI JOHOR****PEPERIKSAAN PERCUBAAN
SIJIL PELAJARAN MALAYSIA 2010**

PRINSIP PERAKAUNAN

Kertas 1

Satu jam lima belas minit

JANGAN BUKA KERTAS SOALAN INI SEHINGGA DIBERITAHU

1. *Kertas soalan ini mengandungi 40 soalan.*
2. *Jawab semua soalan.*
3. *Tiap-tiap soalan diikuti oleh empat pilihan jawapan yang berhuruf A, B, C dan D. Bagi tiap-tiap soalan pilih satu jawapan sahaja. Hitamkan jawapan anda pada kertas jawapan objektif yang disediakan.*
4. *Jika anda hendak menukar jawapan, padamkan tanda yang telah dibuat. Kemudian hitamkan jawapan yang baru.*
5. *Anda dibenarkan menggunakan kalkulator saintifik yang tidak boleh diprogramkan.*

Kertas soalan ini mengandungi 18 halaman bercetak

- 1 Manakah pernyataan berikut menunjukkan tujuan simpan kira?
- A Merekod urus niaga dalam dua akaun yang berbeza.
 - B Menyediakan maklumat mengenai penghutang dan pemiutang
 - C Mengelas, merekod, mentafsir, melapor dan menganalisis kewangan
 - D Merekod urus niaga secara tepat dan sistematik berasaskan sistem catatan bergu
- 2 Pernyataan di bawah menunjukkan ciri-ciri sebuah perniagaan.
- Liabiliti pemilik terhad
 - Bilangan ahli 2 – 50 orang
 - Saham tidak disenaraikan di Bursa Saham
 - Penyata kewangan tidak perlu didedahkan kepada orang ramai

Manakah perniagaan yang menepati ciri-ciri di atas?

- A Manan Berhad
 - B Manan Trading
 - C Manan Sdn. Bhd.
 - D Manan dan Co Trading
- 3 Pernyataan di bawah berkaitan dengan satu konsep perakaunan.

Insurans perlu diselaraskan dengan insurans terdahulu untuk satu tempoh perakaunan sebelum dipindahkan ke Akaun Untung Rugi

Nyatakan konsep perakaunan tersebut.

- A Berterusan
- B Pemandanan
- C Kos sejarah
- D Tempoh perakaunan

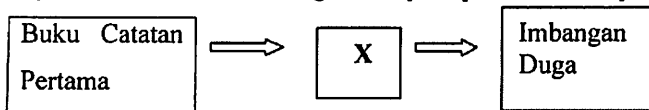
4 Berikut adalah dua jenis perniagaan.

- | |
|--|
| <ul style="list-style-type: none"> • Pasar Mini Jaya • Bengkel Motor Salim |
|--|

Manakah yang **benar** bagi kedua-dua jenis perniagaan di atas?

- A Diuruskan oleh rakan kongsi
- B Dikawal oleh Lembaga Pengarah
- C Liabiliti perniagaan adalah terhad
- D Tertakluk di bawah Akta Pendaftaran Perniagaan

5 Rajah berikut adalah sebahagian daripada proses kitaran perakaunan.



Apakah butiran X ?

- A Lejar
- B Pelarasan
- C Dokumen Sumber
- D Penyata Kewangan

6 Manakah pengelasan akaun yang betul?

	Akaun Nyata	Akaun Nominal
A	Premis	Alatan pejabat
B	Bank	Penghutang
C	Belian	Insurans
D	Perabot	Gaji

- 7 Apakah kesan pemilik membawa masuk perabot bernilai RM180 dari rumahnya untuk kegunaan perniagaan ke atas persamaan perakaunan?

	Aset	Liabiliti	Ekuiti Pemilik
A	Perabot +RM180	-	Modal +RM180
B	Perabot +RM180	Pemiutang +RM180	-
C	Perabot +RM180	-	Ambilan +RM180
D	Perabot – RM180	Pemiutang – RM180	-

- 8 Dokumen berikut diterima oleh Cik Habsah seorang kerani akaun.

<p>MEMO Kedai Buku Soon Heng</p> <p style="text-align: right;">Tarikh : 1 Mac 2010</p> <p>Peringatan : Pemilik telah mengambil 3 dozen pen yang bernilai RM15 untuk didermakan kepada anak-anak yatim.</p> <p style="text-align: right;"><i>S Heng</i> Pengurus</p>
--

Apakah catatan dalam Jurnal Am?

	Butir	Debit(RM)	Kredit(RM)
A	Ambilan Alat Tulis	15	15
B	Derma Belian	15	15
C	Alat Tulis Ambilan	15	15
D	Belian Derma	15	15

- 9 Berikut ialah dialog antara seorang peniaga dengan pekerjaanya.

Johan : Siti, invoice yang kita keluarkan kepada Kedai Hatta telah terlebih caj, sila betulkan kesilapan itu. Siti : Baiklah, tuan.

Apakah dokumen yang perlu dihantar kepada Kedai Hatta ?

- A Memo
 - B Invoice
 - C Nota Debit
 - D Nota Kredit
- 10 Manakah urus niaga berikut dicatatkan dalam Jurnal Am ?
- I Membayar insurans kediaman dengan wang perniagaan
 - II Membayar yuran sekolah anak dengan wang perniagaan
 - III Membeliengkapan secara kredit untuk kegunaan perniagaan
 - IV Membawa masuk sebuah kenderaan untuk kegunaan perniagaan
- A I dan II
 - B I dan IV
 - C II dan III
 - D III dan IV

11 Berikut ialah keratan cek Pasarmini Zara.

Tarikh :	8 Mac 2010	
Penerima:	Pasarmini Zara	
Kerana:	<i>Kegunaan Perniagaan</i>	
	<i>Ringgit</i>	<i>Sen</i>
Baki Akhir	120 900	00
Dimasukkan	-	-
Jumlah	120 900	00
Cek ini	300	00
Baki	120 600	00
BMB 116783		

Manakah catatan yang **betul** untuk merekod dokumen ini?

A Buku Tunai

Tarikh	Butir	Diskaun	Tunai	Bank	Tarikh	Butir	Diskaun	Tunai	Bank
					Mac 8	Ambilan			300

B Buku Tunai

Tarikh	Butir	Diskaun	Tunai	Bank	Tarikh	Butir	Diskaun	Tunai	Bank
Mac 8	Ambilan			300					

C Buku Tunai

Tarikh	Butir	Diskaun	Tunai	Bank	Tarikh	Butir	Diskaun	Tunai	Bank
Mac 8	Bank		300		Mac 8	Tunai			300

D Buku Tunai

Tarikh	Butir	Diskaun	Tunai	Bank	Tarikh	Butir	Diskaun	Tunai	Bank
Mac 8	Tunai			300	Mac 8	Bank		300	

12 Berikut adalah urus niaga yang dipetik dari Kedai Azman

Menerima cek bernilai RM4 500 daripada Leela kerana menjelaskan hutangnya sebanyak RM4 750.

Manakah catatan yang betul untuk merekod urus niaga ini?

A **Buku Tunai**

Tarikh	Butir	Diskaun	Tunai	Bank	Tarikh	Butir	Diskaun	Tunai	Bank
					Mac 1	Leela	250		4 500

B **Buku Tunai**

Tarikh	Butir	Diskaun	Tunai	Bank	Tarikh	Butir	Diskaun	Tunai	Bank
Mac 1	Leela	250		4 500					

C **Buku Tunai**

Tarikh	Butir	Diskaun	Tunai	Bank	Tarikh	Butir	Diskaun	Tunai	Bank
Mac 1	Leela	250		4750					

D **Buku Tunai**

Tarikh	Butir	Diskaun	Tunai	Bank	Tarikh	Butir	Diskaun	Tunai	Bank
					Mac 1	Leela	250		4750

13 Maklumat berikut diambil dari buku Perniagaan Sam.

Pada 6 Januari 2010, peniaga membeli barang niaga dengan harga RM8 000. Syarat diskaun niaga dan diskaun tunai adalah seperti berikut:

Diskaun niaga 20%

Diskaun tunai 10% 10 hari ; 5% 15 hari

Berapakah jumlah yang perlu dibayar jika hutang dijelaskan pada 14 Februari 2010?

- A RM4 800
- B RM5 760
- C RM6 400
- D RM6 080

- 14 Berikut adalah maklumat daripada buku tunai runcit Kedai Aiza pada 31 Oktober 2009.

Wang panjar runcit bulanan ialah RM200. Jumlah pembayaran sepanjang bulan Oktober adalah RM190.

Berapakah jumlah wang yang perlu dituntut daripada ketua juruwang?

- A RM190
 - B RM200
 - C RM210
 - D RM390
- 15 Manakah antara berikut merupakan lejar subsidiari?
- I Lejar Am
 - II Lejar Khas
 - III Lejar Jualan
 - IV Lejar Belian
- A I dan II
 - B I dan IV
 - C II dan III
 - D III dan IV

- 16 Fahmi, pemilik Kedai Perabot Fahmin mengeluarkan sebuah meja dari stok bernilai RM260 untuk kegunaan pejabat.

Apakah catatan lejar untuk urus niaga tersebut?

	Debit	Kredit
A	Akaun Ambilan	Akaun Perabot
B	Akaun Ambilan	Akaun Belian
C	Akaun Belian	Akaun Perabot
D	Akaun Perabot	Akaun Belian

17 Manakah **benar** tentang peraturan merekod urus niaga ke dalam lejar?

- A Liabiliti didebitkan apabila bertambah
- B Modal didebitkan apabila bertambah
- C Aset dikreditkan apabila bertambah
- D Aset didebitkan apabila bertambah

18 Manakah catatan berikut menunjukkan catatan kontra dalam Akaun Kawalan?

	Akaun Kawalan Penghutang	Akaun Kawalan Pemiutang
A	Kredit	Debit
B	Kredit	Kredit
C	Debit	Debit
D	Debit	Kredit

19 Data di bawah diperoleh daripada buku akaun Perniagaan Al Amin pada 31 Januari 2010.

	RM
Modal	10 200
Belian	6 200
Jualan	9 200
Lengkapan	4 500
Sewa dibayar	3 000
Bank	5 700

Berapakah nilai Imbangan Duga Perniagaan Al Amin?

- A RM12 200
- B RM16 400
- C RM19 400
- D RM25 600

- 20 Manakah pernyataan yang **benar** mengenai Imbangan Duga?
- A Imbangan Duga hanya boleh disediakan pada akhir setiap tempoh perakaunan
 - B Ketepatan catatan dalam akaun boleh disemak sepenuhnya menggunakan Imbangan Duga
 - C Jumlah debit dan kredit yang seimbang tidak semestinya menunjukkan semua catatan dalam lejar dibuat dengan betul
 - D Imbangan Duga ialah sebahagian daripada akaun yang akan dipindahkan ke Akaun Perdagangan , Akaun Untung Rugi dan Kunci Kira-kira.
- 21 Pulangan jualan RM360 oleh Hafidz tersilap catat sebagai RM306 dalam kedua-dua akaun.

Bagaimanakah kesilapan ini dibetulkan dalam Jurnal Am?

	Butir	Debit(RM)	Kredit(RM)
A	Pulangan jualan Hafidz	360	360
B	Pulangan jualan Hafidz	54	54
C	Hafidz Pulangan jualan	360	360
D	Hafidz Pulangan jualan	54	54

- 22 Manakah antara berikut menunjukkan kesilapan ketara ?
- A Belian alat tulis RM80 telah direkodkan ke Akaun Alatan Pejabat.
 - B Penerimaan diskaun RM200 tidak direkodkan dalam mana-mana buku.
 - C Bayaran insurans RM170 telah didebitkan ke Buku Tunai dan dikreditkan ke Akaun Insurans.
 - D Bayaran sewa RM320 telah direkodkan dengan betul dalam Buku Tunai tetapi direkodkan RM230 dalam Akaun Sewa.

23 Berikut adalah petikan Imbangan Duga Perniagaan Sinaran Selatan pada 30 Jun 2010.

Butir	Debit RM	Kredit RM
Kenderaan	60 000	
Peruntukan susut nilai kenderaan		3 000

Perniagaan Sinaran Selatan telah memperuntukkan susut nilai kenderaan dengan kadar 20% setahun atas kos.

Berapakah jumlah belanja susut nilai kenderaan bagi tahun berakhir 30 Jun 2010?

- A RM11 400
- B RM12 000
- C RM12 600
- D RM15 000

24 Urus niaga berikut diperoleh daripada buku Kedai Sukan Gemilang

Pada 1 Ogos 2009, pemilik membayar insurans RMs 760 untuk setahun. Tempoh perakaunannya berakhir pada 31 Disember 2009.

Manakah catatan akaun yang betul?

A

Akaun Insurans							
			RM				RM
Dis 31	Bank		5 760		Dis 31	Untung rugi	2 400
						Baki h/b	3 360
			5 760				5 760

B

Akaun Insurans							
			RM				RM
Dis 31	Untung rugi		2 400		Dis 31	Bank	5 760
	Baki h/b		3 360				
			5 760				5 760

C

Akaun Insurans							
			RM				RM
Dis 31	Bank		5 760		Dis 31	Untung rugi	5 760

D

Akaun Insurans							
			RM				RM
Dis 31	Untung rugi		5 760		Dis 31	Bank	5 760

25 Data berikut diperoleh daripada Kedai Calvin pada 30 Jun 2010.

	RM
Stok pada 1 Julai 2009	10 250
Stok pada 30 Jun 2010	9 870
Jualan	45 120
Angkutan keluar	260
Belian	35 170
Pulangan belian	540

Berapakah kos barang untuk dijual?

- A RM35 010
- B RM35 270
- C RM44 880
- D RM45 420

26 Maklumat berikut diperoleh daripada Perniagaan Mariamah pada 30 Jun 2010.

	RM
Tunai	1 200
Alatan pejabat	600
Pemiutang	800
Sewa dibayar terdahulu	200
Penghutang	500
Komisen diterima	700

Berapakah jumlah modal kerja?

- A RM1 100
- B RM1 900
- C RM2 300
- D RM2 400

27 Berikut adalah Lembaran kerja Perniagaan Ilham bagi tahun berakhir 30 Jun 2010

Perniagaan Ilham
Lembaran Kerja bagi tahun berakhir 30 Jun 2010

	Imbangan Duga		Pelarasan		Imbangan Duga Terselaras		Akaun Perdagangan dan Untung Rugi		Kunci Kira-kira	
	Dt	Kt	Dt	Kt	Dt	Kt	Dt	Kt	Dt	Kt
Belian	6500			X	6100		6100			

Berdasarkan maklumat di atas, X ialah

- A Belian barang terkurang caj RM400
 B Duti atas belian RM400 terlupa rekod
 C Ambilan barang RM400 terlupa direkodkan
 D Pulangan barang RM400 terlupa direkodkan
- 28 Penyata bank Syarikat Umi menunjukkan baki kredit RM21 500. Baki ini berbeza dengan Buku Tunai disebabkan oleh perkara-perkara berikut:

- ❖ Cek-cek berjumlah RM2 800 masih belum dikreditkan oleh pihak bank
- ❖ Dividen atas pelaburan RM380 belum direkodkan dalam Buku Tunai

Berapakah baki Buku Tunai?

- A RM18 320
 B RM23 920
 C RM24 050
 D RM24 680

29 Jadual berikut menunjukkan anggaran jualan Perniagaan Arif.

Bulan	Anggaran Jualan
Januari	RM20 000
Februari	RM22 000
Mac	RM18 000

Jualan adalah 70% secara tunai dan 30% secara kredit . Tempoh kredit ialah satu bulan.

Berapakah anggaran tunai yang akan diterima pada bulan Februari?

- A RM18 320
 - B RM21 400
 - C RM22 000
 - D RM28 000
- 30 Urus niaga manakah direkodkan dalam Akaun Realisasi ?
- A Memberi diskaun kepada penghutang
 - B Menjelaskan belanja pembubaran
 - C Membayar faedah atas pinjaman
 - D Pembayaran kepada pemiutang

- 31 Hata dan Qila ialah pekongsi dalam firma Perunding HATILA yang membahagikan untung atau rugi mengikut nisbah 2:3

Penyata Pengasingan Untung Rugi firma perunding HATILA bagi tahun berakhir 31 Julai 2010 adalah seperti berikut:

Penyata Pengasingan Untung Rugi bagi tahun berakhir 31 Julai 2010

	RM
Untung Bersih	45 600
<u>Tolak Faedah atas Modal</u>	
Hata	3 200
Qila	4 800
 Gaji pekongsi : Qila	 12 000
	<hr/> 25 600
 <u>Kongsi Untung</u>	
Hata	X
Qila	Y
	<hr/> 25 600 <hr/>

Berapakah kongsi untung yang diterima oleh Qila?

- A RM10 240
 B RM15 360
 C RM18 240
 D RM27 360
- 32 Apakah dimaksudkan dengan modal nominal bagi sesebuah syarikat berhad ?
- A Modal yang belum dikeluarkan untuk dijual kepada orang ramai
 B Modal yang didaftarkan dengan Suruhanjaya Syarikat Malaysia
 C Modal yang dikeluarkan untuk dijual kepada orang ramai
 D Modal sebenar yang dibayar oleh pemegang saham
- 33 Manakah antara berikut merupakan pendapatan modal Kelab Remaja Kluang?
- A Yuran ahli
 B Jualan minuman
 C Sewa gelanggang kelab
 D Derma untuk pembinaan bangunan kelab

[Lihat halaman sebelah
SULIT

34 Berikut ialah Akaun Yuran Kelab Kampung Gombak.

Akaun Yuran			
2009	RM	2009	RM
Jan. 1 Baki b/b	100	Dis. 31 Bank	3500
Dis.31 Pendapatan dan Perbelanjaan	3550	Baki h/b	150
	3650		3650

Berapakah yuran tahunan?

- A RM3 450
- B RM3 500
- C RM3 550
- D RM3 650

35 Apakah punca yang menyebabkan rekod perniagaan dianggap tidak lengkap?

I	Kemusnahan buku-buku akaun perniagaan
II	Sumber rujukan hanya melalui buku tunai sahaja
III	Merekod urus niaga mengikut sistem catatan bergu
IV	Kesilapan catatan bergu semasa penyediaan akaun

- A I dan II
- B I dan IV
- C II dan III
- D III dan IV

36 Maklumat berikut diperoleh daripada buku Perniagaan Ahmad CB.

Tarikh	Aset RM	Liabiliti RM
1 Januari 2009	85 000	25 000
31 Disember 2009	100 000	35 000

Berapakah untung atau rugi perniagaan tersebut?

- A Untung RM5 000
- B Rugi RM5 000
- C Untung RM25 000
- D Rugi RM25 000

37 Maklumat berikut diperolehi daripada buku perniagaan sebuah kilang.

	RM
Belian bahan mentah	50 000
Kos buruh langsung	10 000
Kos buruh tak langsung	4 000
Sewa kilang	2 000
Stok akhir bahan mentah	8 000

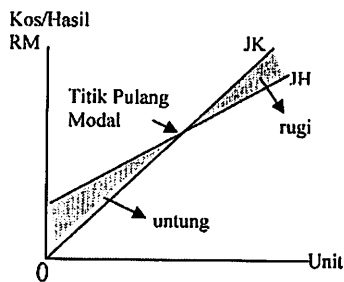
Berapakah kos prima kilang?

- A RM42 000
- B RM46 000
- C RM52 000
- D RM58 000

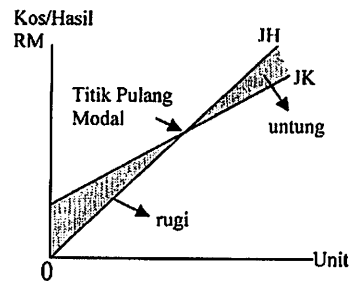
38. Manakah antara berikut menggambarkan graf titik pulang modal?

[JH = Jumlah Hasil, JK = Jumlah Kos]

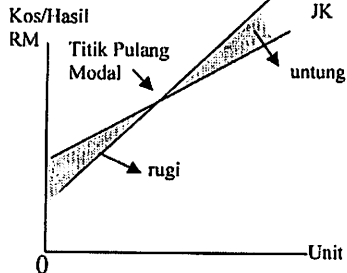
A



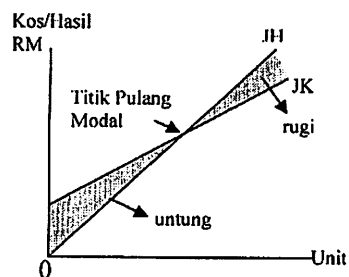
C



B



D



- 39 Maklumat berikut diperolehi daripada Kedai Butik Cantik dan Kedai Butik Moden yang menjual pakaian.

	Kedai Butik Moden	Kedai Butik Cantik
Kadar pusing ganti stok	7 kali	4 kali

Manakah yang benar tentang pengurusan stok kedua-dua butik tersebut?

I	Jualan stok Kedai Butik Moden lebih laris berbanding Kedai Butik Cantik.
II	Pengurusan stok Kedai Butik Moden lebih cekap berbanding Kedai Butik Cantik.
III	Kedai Butik Moden menanggung kos menyimpan stok yang lebih tinggi daripada Kedai Butik Cantik.
IV	Kedai Butik Moden menukar stok setiap 7 bulan sekali, manakala Kedai Butik Cantik menukar stok setiap 4 bulan sekali

- A I dan II
 B I dan III
 C II dan IV
 D III dan IV
- 40 Manakah merupakan persamaan sistem perakaunan secara manual dan sistem perakaunan berkomputer?
- A Prinsip perakaunan yang digunakan
 B Kelajuan dalam memproses data perakaunan
 C Laporan dapat dikeluarkan tepat pada masanya
 D Pindah catat secara automatik ke akaun-akaun lejar

KERTAS SOALAN TAMAT